




DE TAFEL VAN 8


Naam:

Opdracht


Zet een cirkel om elk groepje. Tel daarna de groepjes en de hoeveelheid in een groepje. Vul de zin en keersom in en reken uit.




Ik tel ___ groepjes met ___ bessen
Dus ___ x ___ = ___




Ik tel ___ zakken met ___ koekjes
Dus ___ x ___ = ___




Ik tel ___ bomen met ___ appels
Dus ___ x ___ = ___



Ik tel ___ groepjes met ___ kauwgommen
Dus ___ x ___ = ___



Ik tel ___ borden met ___ koekjes
Dus ___ x ___ = ___



Ik tel ___ groepjes met ___ bessen
Dus ___ x ___ = ___



Ik tel ___ zakjes met ___ knikkers
Dus ___ x ___ = ___



Ik tel ___ groepjes van ___ koffiebonen
Dus ___ x ___ = ___



Ik tel ___ muffins met ___ noten
Dus ___ x ___ = ___



Ik tel ___ stapels met ___ donuts
Dus ___ x ___ = ___




Ik tel ___ pizza's met ___ punten
Dus ___ x ___ = ___




Ik tel ___ aap met ___ vingers
Dus ___ x ___ = ___




Ik tel ___ rijen met ___ donuts
Dus ___ x ___ = ___




Ik tel ___ groepjes van ___ kauwgommen
Dus ___ x ___ = ___




Ik tel ___ spinnen met ___ poten
Dus ___ x ___ = ___



Ik tel ___ dozen met ___ pizzapunten
Dus ___ x ___ = ___




Ik tel ___ repen met ___ stukjes
Dus ___ x ___ = ___



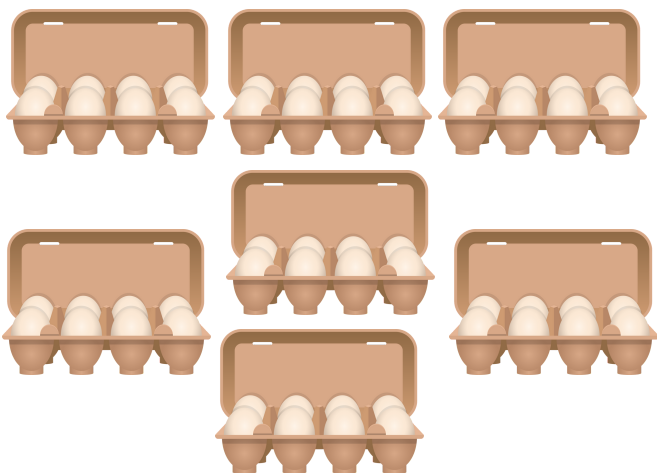
Ik tel ___ dozen met ___ bonbons
Dus ___ x ___ = ___



Ik tel ___ groepjes met ___ stiften
Dus ___ x ___ = ___



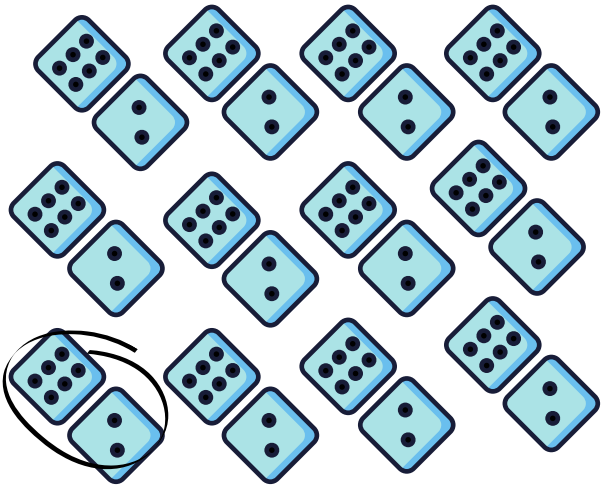
Ik tel ___ boxen van ___ flessen
Dus ___ x ___ = ___




Ik tel ___ dozen met ___ eieren
Dus ___ x ___ = ___



Ik tel ___ rij met ___ potloden
Dus ___ x ___ = ___




Ik tel ___ worpen met ___ ogen
Dus ___ x ___ = ___



Ik tel ___ kaarten met ___ punten
Dus ___ x ___ = ___



Ik tel ___ geheugenkaartjes met ___ GB
Dus ___ x ___ = ___




Ik tel ___ sterren met ___ sterpunten
Dus ___ x ___ = ___




Ik tel ___ rugnummers met ___ punten
Dus ___ x ___ = ___




Ik tel ___ paddenstoelen met ___ stippen
Dus ___ x ___ = ___




Ik tel ___ mandarijnen met ___ partjes
 Dus ___ x ___ = ___



Ik tel ___ lijnen met ___ vlaggen
 Dus ___ x ___ = ___




Ik tel ___ rijen met ___ schijfjes
 Dus ___ x ___ = ___




Ik tel ___ kaarten van ___ punten
 Dus ___ x ___ = ___




Ik tel ___ groepjes met ___ munten
 Dus ___ x ___ = ___



Ik tel ___ dominostenen met ___ ogen
 Dus ___ x ___ = ___



Ik tel ___ borden met ___ koekjes
Dus ___ x ___ = ___




Ik tel ___ groepjes met ___ bessen
Dus ___ x ___ = ___



Ik tel ___ zakjes met ___ knikkers
Dus ___ x ___ = ___



Ik tel ___ groepjes van ___ koffiebonen
Dus ___ x ___ = ___




Ik tel ___ muffins met ___ noten
Dus ___ x ___ = ___



Ik tel ___ stapel met ___ donuts
Dus ___ x ___ = ___



Ik tel ___ pizza's met ___ punten
Dus ___ x ___ = ___




Ik tel ___ apen met ___ vingers
Dus ___ x ___ = ___




Ik tel ___ rijen met ___ donuts
Dus ___ x ___ = ___




Ik tel ___ groepjes van ___ kauwgommen
Dus ___ x ___ = ___




Ik tel ___ spinnen met ___ poten
Dus ___ x ___ = ___



Ik tel ___ dozen met ___ pizzapunten
Dus ___ x ___ = ___



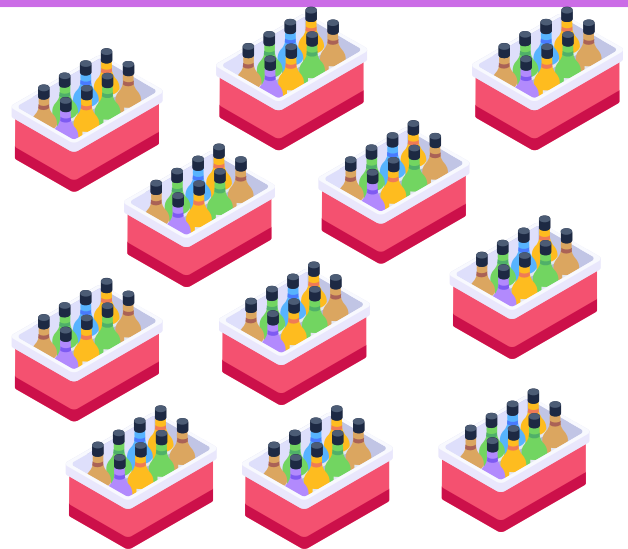
Ik tel ___ repen met ___ stukjes
Dus ___ x ___ = ___



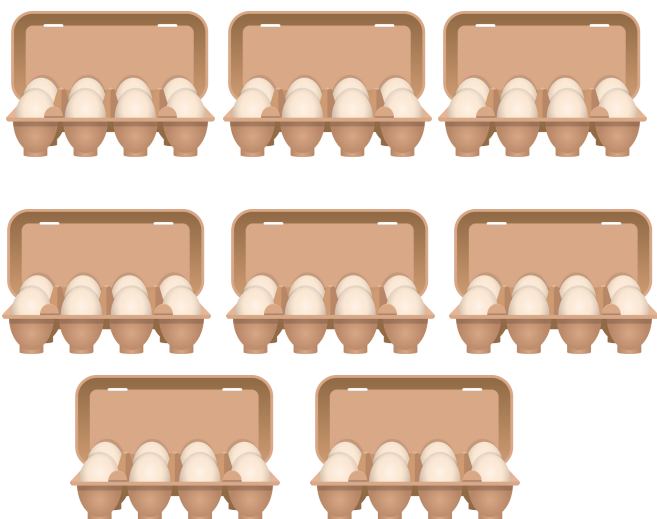
Ik tel ___ dozen met ___ bonbons
Dus ___ x ___ = ___




Ik tel ___ groepje met ___ stiften
Dus ___ x ___ = ___



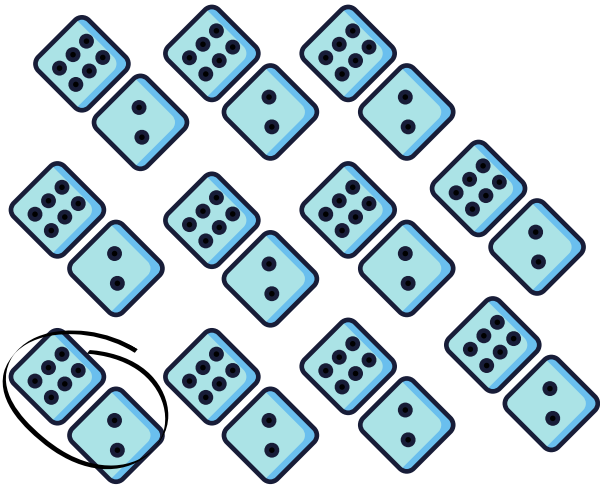
Ik tel ___ boxen van ___ flessen
Dus ___ x ___ = ___




Ik tel ___ dozen met ___ eieren
Dus ___ x ___ = ___




Ik tel ___ groepjes met ___ potloden
Dus ___ x ___ = ___



Ik tel ___ worpen met ___ ogen
Dus ___ x ___ = ___



Ik tel ___ kaarten met ___ punten
Dus ___ x ___ = ___



Ik tel ___ geheugenkaartjes met ___ GB
Dus ___ x ___ = ___




Ik tel ___ sterren met ___ sterpunten
Dus ___ x ___ = ___



Ik tel ___ rugnummers met ___ punten
Dus ___ x ___ = ___




Ik tel ___ paddenstoelen met ___ stippen
Dus ___ x ___ = ___




Ik tel ___ mandarijnen met ___ partjes
Dus ___ x ___ = ___



Ik tel ___ lijnen met ___ vlaggen
Dus ___ x ___ = ___




Ik tel ___ rijen met ___ schijfjes
Dus ___ x ___ = ___



Ik tel ___ kaarten van ___ punten
Dus ___ x ___ = ___



Ik tel ___ groepjes met ___ munten
Dus ___ x ___ = ___



Ik tel ___ dominostenen met ___ ogen
Dus ___ x ___ = ___