

DE TAFEL VAN 7

Naam:

Opdracht


Zet een cirkel om elk groepje. Tel daarna de groepjes en de hoeveelheid in een groepje. Vul de zin en keersom in en reken uit.



Ik tel ___ kandelaren met ___ kaarsen
Dus ___ x ___ = ___




Ik tel ___ planken met ___ boeken
Dus ___ x ___ = ___



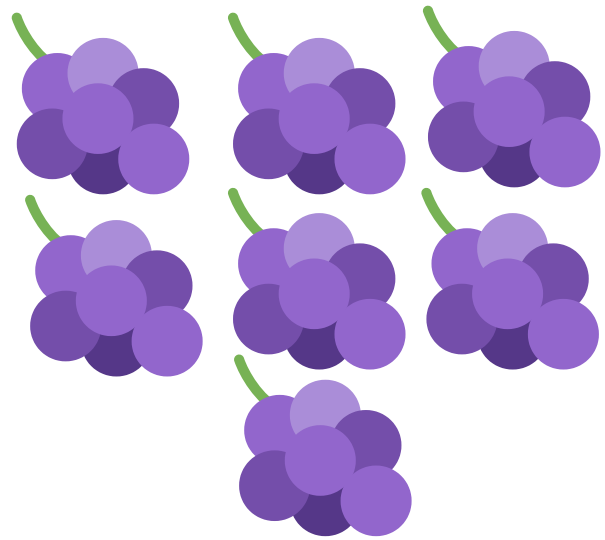
Ik tel ___ kaarten met ___ punten
Dus ___ x ___ = ___




Ik tel ___ shirt met ___ punten
Dus ___ x ___ = ___




Ik tel ___ boeketten met ___ bloemen
Dus ___ x ___ = ___



Ik tel ___ trossen met ___ druiven
Dus ___ x ___ = ___




Ik tel ___ lieveheersbeestjes met ___ stippen
Dus ___ x ___ = ___



Ik tel ___ ballen van ___ punten
Dus ___ x ___ = ___




Ik tel ___ stapels met ___ boeken
Dus ___ x ___ = ___



Ik tel ___ bloemen met ___ bladeren
Dus ___ x ___ = ___




Ik tel ___ groepjes met ___ kinderen
 Dus ___ x ___ = ___




Ik tel ___ rijen met ___ chocolade blokjes
 Dus ___ x ___ = ___



Ik tel ___ vakken met ___ punten
 Dus ___ x ___ = ___



Ik tel ___ taarten met ___ kaarsen
 Dus ___ x ___ = ___



Ik tel ___ apen met ___ vingers
 Dus ___ x ___ = ___



Ik tel ___ wolken met ___ regendruppels
 Dus ___ x ___ = ___



Ik tel ___ trossen met ___ ballonnen
Dus ___ x ___ = ___



Ik tel ___ trossen met ___ bananen
Dus ___ x ___ = ___




Ik tel ___ mandarijnen met ___ partjes
Dus ___ x ___ = ___



Ik tel ___ slingers met ___ vlaggen
Dus ___ x ___ = ___




Ik tel ___ emmers met ___ appels
Dus ___ x ___ = ___



Ik tel ___ boom met ___ appels
Dus ___ x ___ = ___



Ik tel ___ stapel met ___ pannenkoeken
Dus ___ x ___ = ___




Ik tel ___ dominostenen met ___ punten
Dus ___ x ___ = ___



Ik tel ___ rijen met ___ donuts
Dus ___ x ___ = ___



Ik tel ___ verpakkingen met ___ koekjes
Dus ___ x ___ = ___



Ik tel ___ torens met ___ blokken
Dus ___ x ___ = ___




Ik tel ___ schaal met ___ loempia's
Dus ___ x ___ = ___



Ik tel ___ trossen met ___ ballonnen
Dus ___ x ___ = ___



Ik tel ___ trossen met ___ bananen
Dus ___ x ___ = ___




Ik tel ___ mandarijnen met ___ partjes
Dus ___ x ___ = ___



Ik tel ___ slingers met ___ vlaggen
Dus ___ x ___ = ___



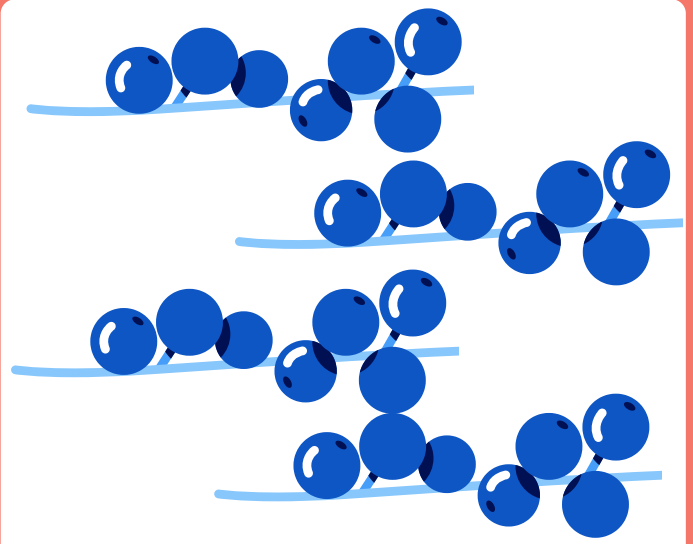
Ik tel ___ emmers met ___ appels
Dus ___ x ___ = ___




Ik tel ___ bomen met ___ appels
Dus ___ x ___ = ___



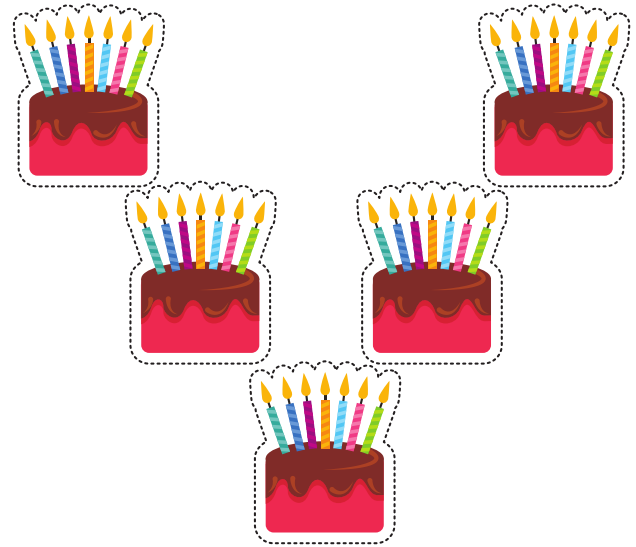
Ik tel ___ groepjes met ___ kinderen
 Dus ___ x ___ = ___




Ik tel ___ takken met ___ bessen
 Dus ___ x ___ = ___



Ik tel ___ pizza's met ___ punten
 Dus ___ x ___ = ___




Ik tel ___ taarten met ___ kaarsen
 Dus ___ x ___ = ___




Ik tel ___ apen met ___ vingers
 Dus ___ x ___ = ___




Ik tel ___ wolken met ___ regendruppels
 Dus ___ x ___ = ___




Ik tel ___ boeketten met ___ bloemen
Dus ___ x ___ = ___



Ik tel ___ trossen met ___ druiven
Dus ___ x ___ = ___




Ik tel ___ lieveheersbeestjes met ___ stippen
Dus ___ x ___ = ___



Ik tel ___ ballen van ___ punten
Dus ___ x ___ = ___



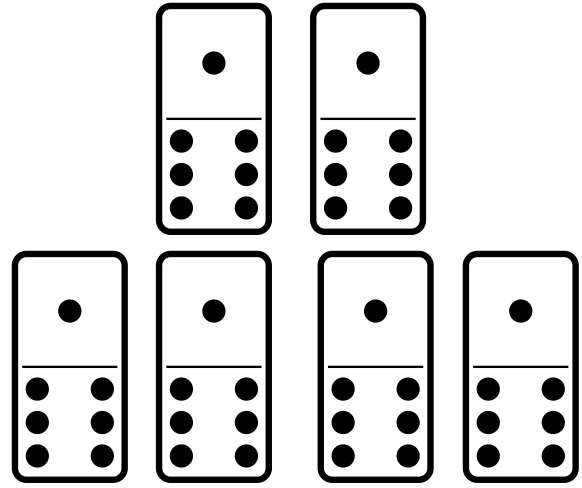
Ik tel ___ stapels met ___ boeken
Dus ___ x ___ = ___



Ik tel ___ bloemen met ___ bladeren
Dus ___ x ___ = ___



Ik tel ___ stapel met ___ pannenkoeken
Dus ___ x ___ = ___




Ik tel ___ dominostenen met ___ punten
Dus ___ x ___ = ___



Ik tel ___ rijen met ___ donuts
Dus ___ x ___ = ___



Ik tel ___ verpakkingen met ___ koekjes
Dus ___ x ___ = ___



Ik tel ___ torens met ___ blokken
Dus ___ x ___ = ___



Ik tel ___ schalen met ___ loempia's
Dus ___ x ___ = ___