


DE TAFEL VAN 5


Naam:

Opdracht

Zet een cirkel om elk groepje. Tel daarna de groepjes en de hoeveelheid in een groepje. Vul de zin en keersom in en reken uit.



Ik tel ___ eierdozen met ___ eieren
Dus ___ x ___ = ___




Ik tel ___ trossen met ___ bananen
Dus ___ x ___ = ___



Ik tel ___ rijen met ___ kinderen
Dus ___ x ___ = ___




Ik tel ___ shirts met ___ punten
Dus ___ x ___ = ___



Ik tel ___ rijen met ___ bomen
 Dus ___ x ___ = ___



Ik tel ___ takken met ___ bladeren
 Dus ___ x ___ = ___




Ik tel ___ groepjes met ___ aardbeien
 Dus ___ x ___ = ___




Ik tel ___ handschoenen met ___ vingers
 Dus ___ x ___ = ___



Ik tel ___ stapel met ___ handdoeken
 Dus ___ x ___ = ___




Ik tel ___ groepjes met ___ glazen
 Dus ___ x ___ = ___



Ik tel ___ stapels met ___ boeken
 Dus ___ x ___ = ___




Ik tel ___ muntjes van ___ cent
 Dus ___ x ___ = ___




Ik tel ___ boeketten met ___ tulpen
 Dus ___ x ___ = ___




Ik tel ___ biljetten van ___ euro
 Dus ___ x ___ = ___




Ik tel ___ groepjes met ___ potloden
 Dus ___ x ___ = ___




Ik tel ___ groepjes met ___ fruitstukken
 Dus ___ x ___ = ___



Ik tel ___ handen met ___ vingers
Dus ___ x ___ = ___



Ik tel ___ dobbelstenen met ___ stippen
Dus ___ x ___ = ___



Ik tel ___ kaarten met ___ punten
Dus ___ x ___ = ___




Ik tel ___ groepjes met ___ ballonnen
Dus ___ x ___ = ___




Ik tel ___ rij met ___ kuikens
Dus ___ x ___ = ___



Ik tel ___ bloemen met ___ bladeren
Dus ___ x ___ = ___



Ik tel ___ takken met ___ bessen
Dus ___ x ___ = ___




Ik tel ___ lijnen met ___ kaartjes
Dus ___ x ___ = ___




Ik tel ___ bossen met ___ sleutels
Dus ___ x ___ = ___



Ik tel ___ krat met ___ flesjes
Dus ___ x ___ = ___




Ik tel ___ dobbelstenen met ___ ogen
Dus ___ x ___ = ___



Ik tel ___ paddestoelen met ___ stippen
Dus ___ x ___ = ___






Ik tel ___ rijen met ___ bomen
 Dus ___ x ___ = ___




Ik tel ___ takken met ___ bladeren
 Dus ___ x ___ = ___




Ik tel ___ groepjes met ___ aardbeien
 Dus ___ x ___ = ___




Ik tel ___ handschoenen met ___ vingers
 Dus ___ x ___ = ___



Ik tel ___ stapels met ___ handdoeken
 Dus ___ x ___ = ___



Ik tel ___ groepjes met ___ glazen
 Dus ___ x ___ = ___



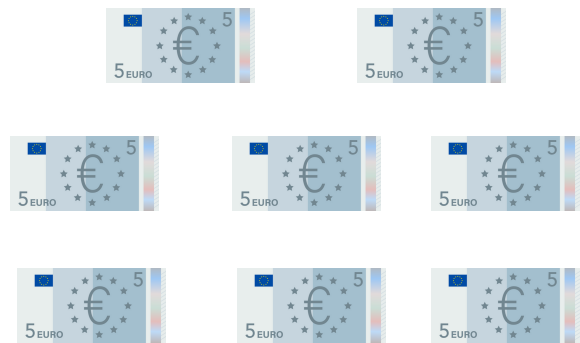
Ik tel ___ stapels met ___ boeken
Dus ___ x ___ = ___



Ik tel ___ muntjes van ___ cent
Dus ___ x ___ = ___




Ik tel ___ boeketten met ___ tulpen
Dus ___ x ___ = ___



Ik tel ___ biljetten van ___ euro
Dus ___ x ___ = ___




Ik tel ___ groepjes met ___ potloden
Dus ___ x ___ = ___




Ik tel ___ groepjes met ___ fruitstukken
Dus ___ x ___ = ___




Ik tel ___ handen met ___ vingers
Dus ___ x ___ = ___




Ik tel ___ dobbelstenen met ___ stippen
Dus ___ x ___ = ___




Ik tel ___ kaarten met ___ punten
Dus ___ x ___ = ___



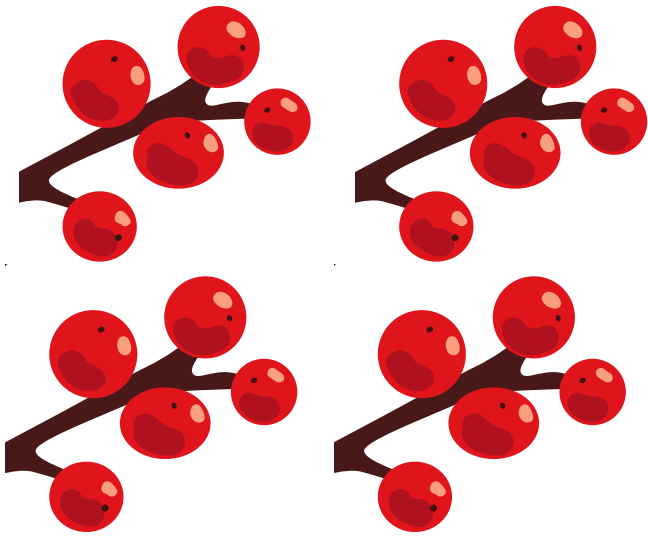
Ik tel ___ groepjes met ___ ballonnen
Dus ___ x ___ = ___




Ik tel ___ rijen met ___ kuikens
Dus ___ x ___ = ___



Ik tel ___ bloemen met ___ bladeren
Dus ___ x ___ = ___




Ik tel ___ takken met ___ bessen
Dus ___ x ___ = ___




Ik tel ___ lijn met ___ kaartjes
Dus ___ x ___ = ___



Ik tel ___ bossen met ___ sleutels
Dus ___ x ___ = ___



Ik tel ___ kratten met ___ flessen
Dus ___ x ___ = ___



Ik tel ___ dobbelstenen met ___ ogen
Dus ___ x ___ = ___



Ik tel ___ paddenstoelen met ___ stippen
Dus ___ x ___ = ___