

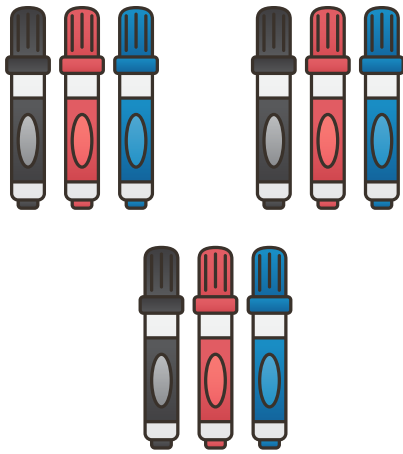


DE TAFEL VAN 3


Naam:

Opdracht

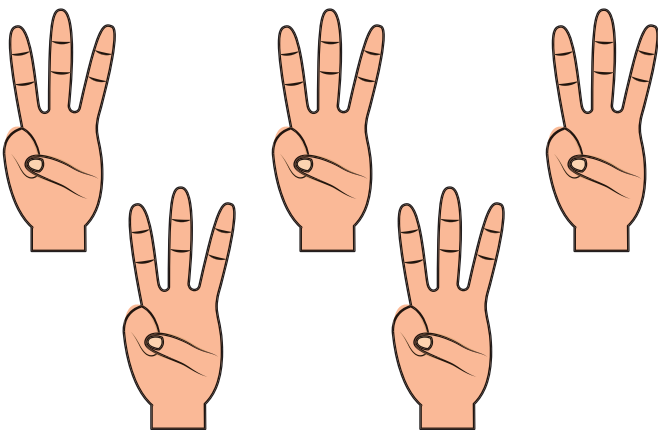
Zet een cirkel om elk groepje. Tel daarna de groepjes en de hoeveelheid in een groepje. Vul de zin en keersom in en reken uit.



Ik tel ___ groepjes met ___ stiften
Dus ___ x ___ = ___



Ik tel ___ groepjes met ___ bananen
Dus ___ x ___ = ___




Ik tel ___ handen met ___ vingers
Dus ___ x ___ = ___



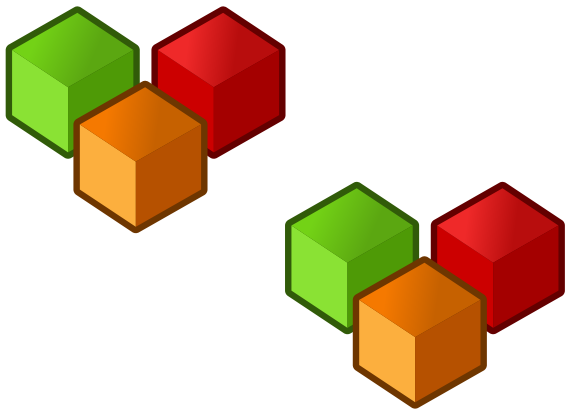
Ik tel ___ cakejes met ___ kaarsen
Dus ___ x ___ = ___




Ik tel ___ lijnen met ___ vlaggen
Dus ___ x ___ = ___




Ik tel ___ groepjes met ___ hoeden
Dus ___ x ___ = ___




Ik tel ___ groepjes met ___ blokken
Dus ___ x ___ = ___



Ik tel ___ stapels van ___ boeken
Dus ___ x ___ = ___




Ik tel ___ rugnummers met ___ punten
Dus ___ x ___ = ___



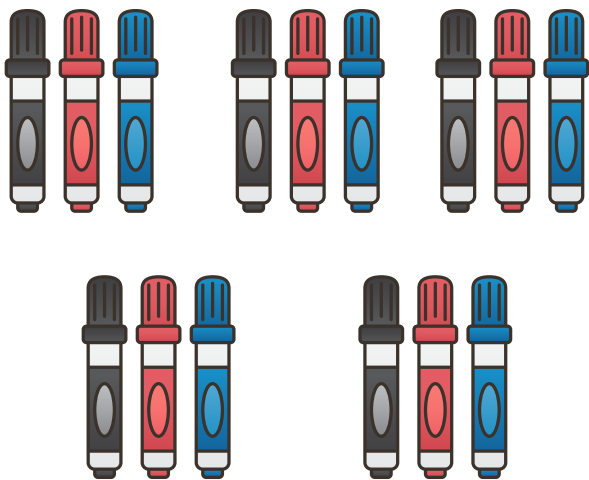
Ik tel ___ boeket met ___ tulpen
Dus ___ x ___ = ___




Ik tel ___ cakejes met ___ kaarsen
Dus ___ x ___ = ___




Ik tel ___ handen met ___ vingers
Dus ___ x ___ = ___




Ik tel ___ groepjes met ___ stiften
Dus ___ x ___ = ___



Ik tel ___ groepjes met ___ bananen
Dus ___ x ___ = ___



Ik tel ___ kettingen met ___ schakels
Dus ___ x ___ = ___



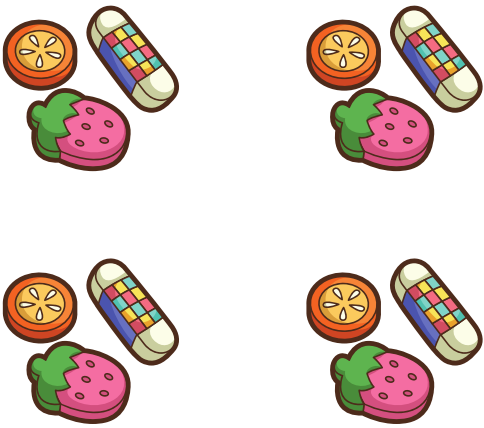
Ik tel ___ fietsen met ___ wielen
Dus ___ x ___ = ___



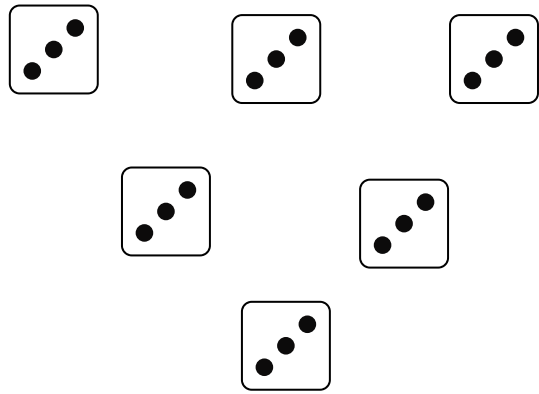
Ik tel ___ groepjes met ___ kaarsen
Dus ___ x ___ = ___



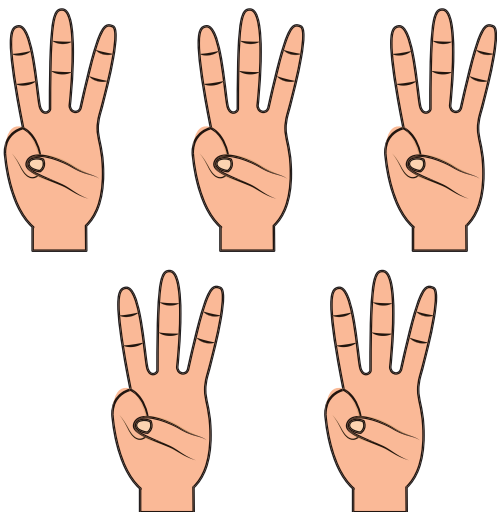
Ik tel ___ groepjes met ___ noten
Dus ___ x ___ = ___




Ik tel ___ groepjes met ___ gummen
Dus ___ x ___ = ___



Ik tel ___ dobbelstenen met ___ ogen
Dus ___ x ___ = ___




Ik tel ___ handen met ___ vingers
Dus ___ x ___ = ___



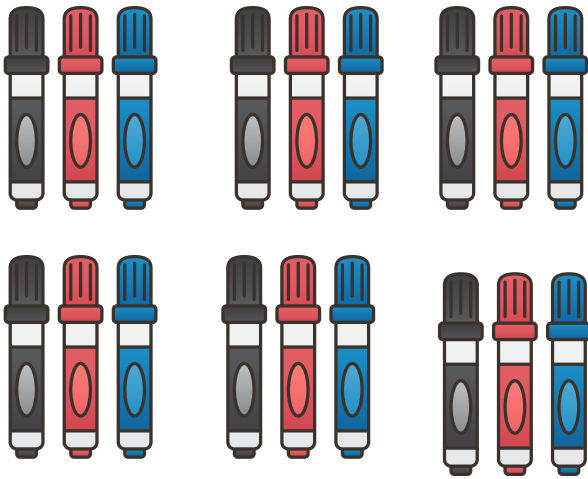
Ik tel ___ trossen met ___ bananen
Dus ___ x ___ = ___




Ik tel ___ cakejes met ___ kaarsen
Dus ___ x ___ = ___




Ik tel ___ handen met ___ vingers
Dus ___ x ___ = ___




Ik tel ___ groepjes met ___ stiften
Dus ___ x ___ = ___



Ik tel ___ groepjes met ___ bananen
Dus ___ x ___ = ___



Ik tel ___ kettingen met ___ schakels
Dus ___ x ___ = ___



Ik tel ___ fietsen met ___ wielen
Dus ___ x ___ = ___




Ik tel ___ groepjes met ___ kaarsen
Dus ___ x ___ = ___



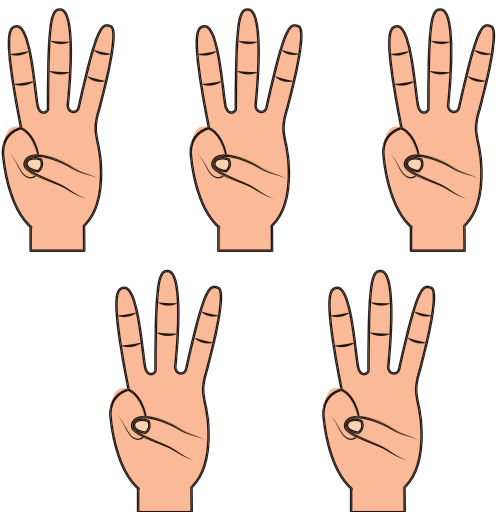
Ik tel ___ groepjes met ___ noten
Dus ___ x ___ = ___




Ik tel ___ groepjes met ___ gummen
Dus ___ x ___ = ___



Ik tel ___ dobbelstenen met ___ ogen
Dus ___ x ___ = ___



Ik tel ___ handen met ___ vingers
Dus ___ x ___ = ___



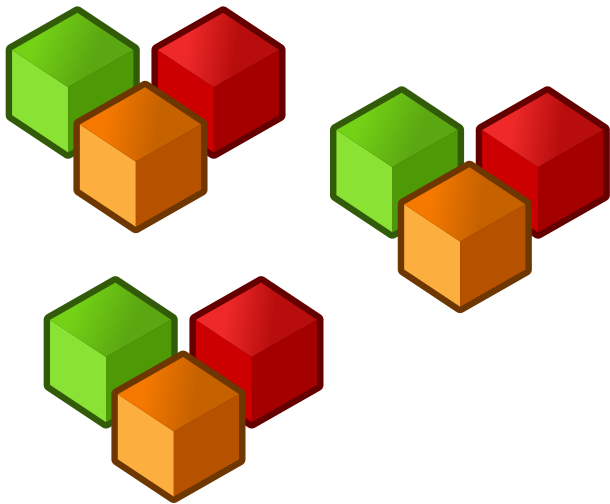
Ik tel ___ trossen met ___ bananen
Dus ___ x ___ = ___




Ik tel ___ lijnen met ___ vlaggen
Dus ___ x ___ = ___




Ik tel ___ groepjes met ___ hoeden
Dus ___ x ___ = ___




Ik tel ___ groepjes met ___ blokken
Dus ___ x ___ = ___



Ik tel ___ stapels van ___ boeken
Dus ___ x ___ = ___




Ik tel ___ rugnummers met ___ punten
Dus ___ x ___ = ___



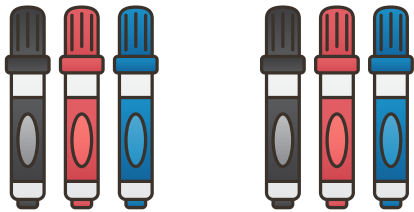
Ik tel ___ boeketten met ___ tulpen
Dus ___ x ___ = ___




Ik tel ___ cakejes met ___ kaarsen
Dus ___ x ___ = ___




Ik tel ___ handen met ___ vingers
Dus ___ x ___ = ___




Ik tel ___ groepjes met ___ stiften
Dus ___ x ___ = ___



Ik tel ___ groepjes met ___ bananen
Dus ___ x ___ = ___



Ik tel ___ kettingen met ___ schakels
Dus ___ x ___ = ___



Ik tel ___ fietsen met ___ wielen
Dus ___ x ___ = ___