


Welk plaatje hoort er bij
jouw keersom?

$$1 \times 3 = ?$$


Welk keersom hoort er bij
jouw plaatje?



Welk plaatje hoort er bij
jouw keersom?

$$2 \times 3 = ?$$


Welk keersom hoort er bij
jouw plaatje?



Welk plaatje hoort er bij
jouw keersom?

$$3 \times 3 = ?$$

Welk keersom hoort er bij
jouw plaatje?



Welk plaatje hoort er bij
jouw keersom?

$$4 \times 3 = ?$$

Welk keersom hoort er bij
jouw plaatje?



Welk plaatje hoort er bij
jouw keersom?

$$5 \times 3 = ?$$



Welk plaatje hoort er bij
jouw keersom?

$$6 \times 3 = ?$$



Welk plaatje hoort er bij
jouw keersom?

$$7 \times 3 = ?$$



Welk plaatje hoort er bij
jouw keersom?


$$8 \times 3 = ?$$



Welk plaatje hoort er bij
jouw keersom?

$$9 \times 3 = ?$$


Welk keersom hoort er bij
jouw plaatje?



Welk plaatje hoort er bij
jouw keersom?

$$10 \times 3 = ?$$

Welk keersom hoort er bij
jouw plaatje?



Welk plaatje hoort er bij
jouw keersom?

$$11 \times 3 = ?$$

Welk keersom hoort er bij
jouw plaatje?



Welk plaatje hoort er bij
jouw keersom?

$$12 \times 3 = ?$$

Welk keersom hoort er bij
jouw plaatje?



Welk plaatje hoort er bij
jouw keersom?

$$13 \times 3 = ?$$

Welk keersom hoort er bij
jouw plaatje?



Welk plaatje hoort er bij
jouw keersom?

$$14 \times 3 = ?$$



Welk plaatje hoort er bij
jouw keersom?

$$15 \times 3 = ?$$



Welk plaatje hoort er bij
jouw keersom?

$$16 \times 3 = ?$$

Welk keersom hoort er bij
jouw plaatje?

