


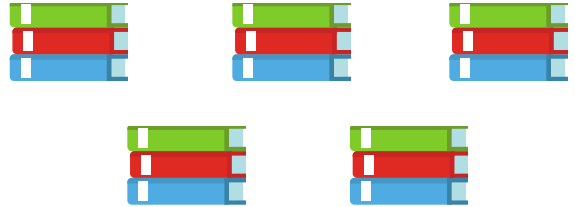


DE TAFELS VAN 2 TOT 5 EN 10


Naam:



Ik tel ___ puzzels met ___ stukjes.
Dus ___ x ___ = ___ stukjes.



Ik tel ___ stapels met ___ boeken.
Dus ___ x ___ = ___ boeken.




Ik tel ___ groepjes met ___ potloden.
Dus ___ x ___ = ___ potloden.



Ik tel ___ groepjes met ___ flessen.
Dus ___ x ___ = ___ flessen.

Ik heb 6 zakken.
In elke zak zitten 3 stokbroden.



Welke keersom hoort er bij?
___ x ___ = ___ stokbroden.

Ik heb 2 fruitschalen. Op elke
fruitschaal liggen 5 stukken fruit.



Welke keersom hoort er bij?
___ x ___ = ___ stukken fruit.

Ik heb 3 stapels.
Op elke stapel liggen 3 boeken.



Welke keersom hoort er bij?
___ x ___ = ___ boeken.

Ik heb 4 biljetten.
Elk biljet is 5 euro waard.



Welke keersom hoort er bij?
___ x ___ = ___ euro.

Ik heb 5 kaarten.
Elke kaart is 10 punten waard.



Welke keersom hoort er bij?
___ x ___ = ___ punten.

Ik heb 4 groepjes.
In elk groepje zitten 3 stiften.



Welke keersom hoort er bij?
___ x ___ = ___ stiften.

Ik heb 7 dobbelstenen.
Elke dobbelsteen heeft 3 ogen.



Welke keersom hoort er bij?
___ x ___ = ___ ogen.

Ik heb 6 muntjes.
Elk muntje is 5 cent waard.



Welke keersom hoort er bij?
___ x ___ = ___ cent.

Ik heb 9 biljetten.
Elke biljet is 10 euro waard.

Welke keersom hoort er bij?
___ x ___ = ___ euro.

Ik heb 2 stapels.
Elke stapel heeft 4 boeken.

Welke keersom hoort er bij?
___ x ___ = ___ boeken.

Ik heb 3 zakken.
In elke zak zitten 2 stokbroden.

Welke keersom hoort er bij?
___ x ___ = ___ stokbroden.

Ik heb 3 fruitschalen. Op elke
fruitschaal liggen 3 stukken fruit.

Welke keersom hoort er bij?
___ x ___ = ___ stukken fruit.

Ik heb 4 groepjes.
In elk groepje liggen 5 potloden.


Welke keersom hoort er bij?
___ x ___ = ___ potloden.

Ik heb 4 munten.
Elke munt 2 euro waard.

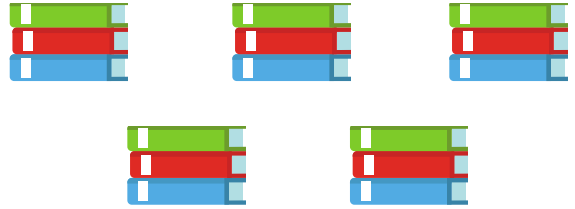
Welke keersom hoort er bij?
___ x ___ = ___ euro.




NAKIJKBLAD



Ik tel 9 puzzels met 4 stukjes.
Dus 9 x 4 = 36 stukjes.



Ik tel 5 stapels met 3 boeken.
Dus 5 x 3 = 15 boeken.




Ik tel 6 groepjes met 5 potloden.
Dus 6 x 5 = 30 potloden.



Ik tel 4 groepjes met 2 flessen.
Dus 4 x 2 = 8 flessen.

Ik heb 6 zakken.
In elke zak zitten 3 stokbroden.



Welke keersom hoort er bij?
6 x 3 = 18 stokbroden.

Ik heb 2 fruitschalen. Op elke
fruitschaal liggen 5 stukken fruit.



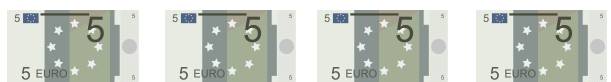
Welke keersom hoort er bij?
2 x 5 = 10 stukken fruit.

Ik heb 3 stapels.
Op elke stapel liggen 3 boeken.



Welke keersom hoort er bij?
3 x 3 = 9 boeken.

Ik heb 4 biljetten.
Elk biljet is 5 euro waard.



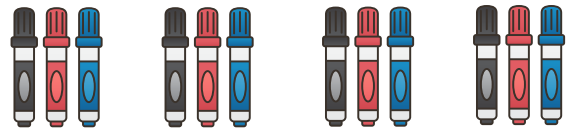
Welke keersom hoort er bij?
4 x 5 = 20 euro.

Ik heb 5 kaarten.
Elke kaart is 10 punten waard.



Welke keersom hoort er bij?
5 x 10 = 50 punten.

Ik heb 4 groepjes.
In elk groepje zitten 3 stiften.



Welke keersom hoort er bij?
4 x 3 = 12 stiften.

Ik heb 7 dobbelstenen.
Elke dobbelsteen heeft 3 ogen.



Welke keersom hoort er bij?
7 x 3 = 21 ogen.

Ik heb 6 muntjes.
Elk muntje is 5 cent waard.



Welke keersom hoort er bij?
6 x 5 = 30 cent.

Ik heb 9 biljetten.
Elke biljet is 10 euro waard.



Welke keersom hoort er bij?
9 x 10 = 90 euro.

Ik heb 2 stapels.
Elke stapel heeft 4 boeken.



Welke keersom hoort er bij?
2 x 4 = 8 boeken.

Ik heb 3 zakken.
In elke zak zitten 2 stokbroden.



Welke keersom hoort er bij?
3 x 2 = 6 stokbroden.

Ik heb 3 fruitschalen. Op elke fruitschaal liggen 3 stukken fruit.



Welke keersom hoort er bij?
3 x 3 = 9 stukken fruit.

Ik heb 4 groepjes.
In elk groepje liggen 5 potloden.



Welke keersom hoort er bij?
4 x 5 = 20 potloden.

Ik heb 4 munten.
Elke munt is 2 euro waard.



Welke keersom hoort er bij?
4 x 2 = 8 euro.