

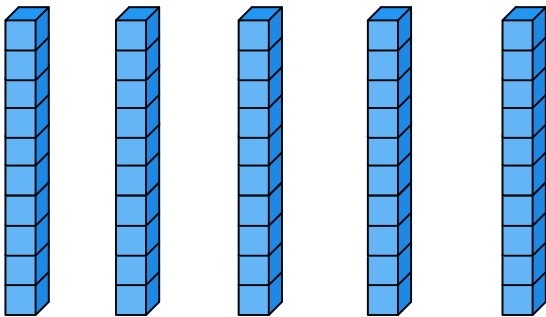


DE TAFEL VAN 10


Naam:

Opdracht

Zet een cirkel om elk groepje. Tel daarna de groepjes en de hoeveelheid in een groepje. Vul de zin en keersom in en reken uit.



Ik tel ___ staven met ___ blokken
Dus ___ x ___ = ___




Ik tel ___ kaarten met ___ punten
Dus ___ x ___ = ___



Ik tel ___ taarten met ___ kaarsjes
Dus ___ x ___ = ___



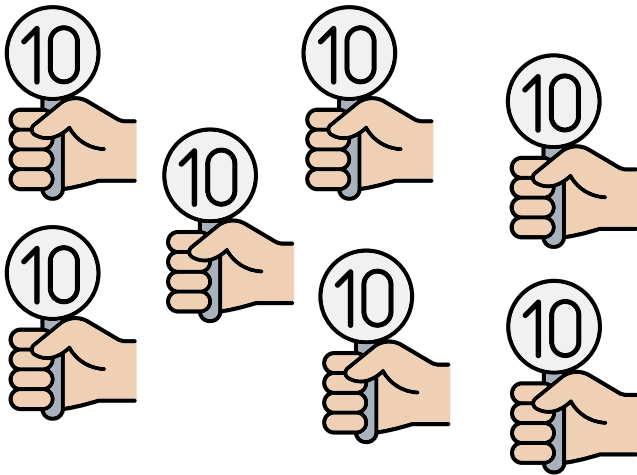
Ik tel ___ rijen met ___ kinderen
Dus ___ x ___ = ___



Ik tel ___ pizza's met ___ punten
 Dus ___ x ___ = ___




Ik tel ___ munten met ___ cent
 Dus ___ x ___ = ___




Ik tel ___ bordjes met ___ punten
 Dus ___ x ___ = ___



Ik tel ___ zakjes met ___ knikkers
 Dus ___ x ___ = ___




Ik tel ___ rijen met ___ bomen
 Dus ___ x ___ = ___



Ik tel ___ rijen met ___ vakken
 Dus ___ x ___ = ___




Ik tel ___ biljetten van ___ euro
Dus ___ x ___ = ___




Ik tel ___ koeien met ___ vlekken
Dus ___ x ___ = ___



Ik tel ___ paddenstoel met ___ stippen
Dus ___ x ___ = ___




Ik tel ___ dozen met ___ eieren
Dus ___ x ___ = ___



Ik tel ___ bekers met ___ potloden
Dus ___ x ___ = ___



Ik tel ___ stapels met ___ boeken
Dus ___ x ___ = ___




Ik tel ___ dobbelstenen met ___ punten
Dus ___ x ___ = ___



Ik tel ___ tros met ___ ballonnen
Dus ___ x ___ = ___



Ik tel ___ planten met ___ bloemen
Dus ___ x ___ = ___




Ik tel ___ shirts met ___ punten
Dus ___ x ___ = ___



Ik tel ___ slingers met ___ vlaggen
Dus ___ x ___ = ___




Ik tel ___ paar handen met ___ vingers
Dus ___ x ___ = ___




Ik tel ___ pizza's met ___ punten
Dus ___ x ___ = ___




Ik tel ___ munten met ___ cent
Dus ___ x ___ = ___



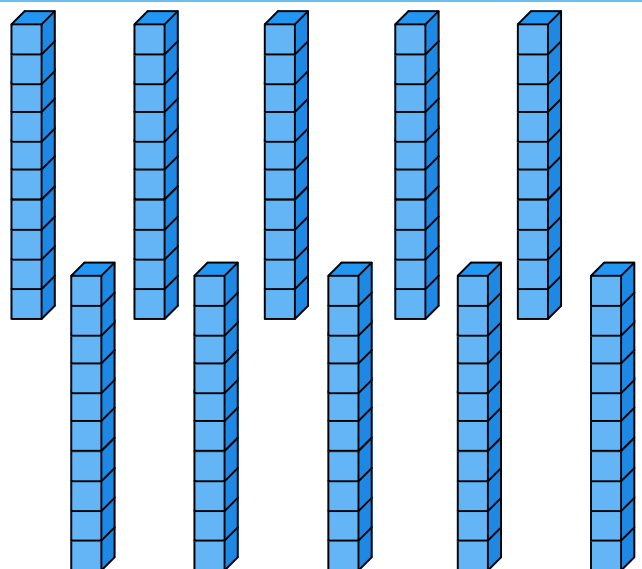
Ik tel ___ bordjes met ___ punten
Dus ___ x ___ = ___



Ik tel ___ zakjes ___ knikkers
Dus ___ x ___ = ___




Ik tel ___ rijen met ___ bomen
Dus ___ x ___ = ___



Ik tel ___ staven met ___ blokken
Dus ___ x ___ = ___




Ik tel ___ biljetten van ___ euro
Dus ___ x ___ = ___



Ik tel ___ koeien met ___ vlekken
Dus ___ x ___ = ___



Ik tel ___ paddenstoelen met ___ stippen
Dus ___ x ___ = ___




Ik tel ___ dozen met ___ eieren
Dus ___ x ___ = ___



Ik tel ___ bekertjes met ___ potloden
Dus ___ x ___ = ___




Ik tel ___ stapel met ___ boeken
Dus ___ x ___ = ___




Ik tel ___ dobbelstenen met ___ punten
Dus ___ x ___ = ___



Ik tel ___ trossen met ___ ballonnen
Dus ___ x ___ = ___




Ik tel ___ planten met ___ bloemen
Dus ___ x ___ = ___



Ik tel ___ shirts met ___ punten
Dus ___ x ___ = ___




Ik tel ___ slingers met ___ vlaggen
Dus ___ x ___ = ___



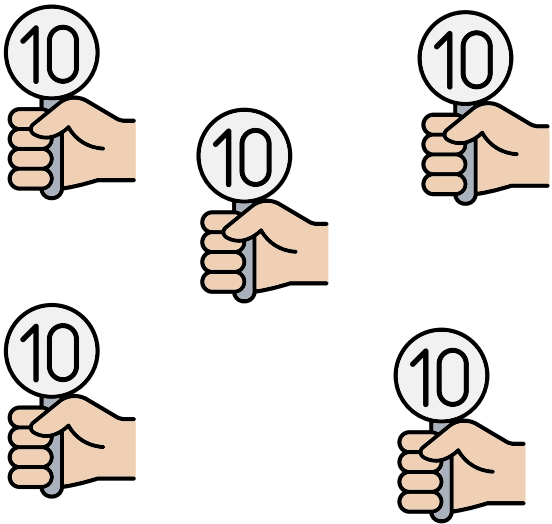
Ik tel ___ paar handen met ___ vingers
Dus ___ x ___ = ___




Ik tel ___ taart met ___ kaarsjes
Dus ___ x ___ = ___




Ik tel ___ munten met ___ cent
Dus ___ x ___ = ___




Ik tel ___ bordjes met ___ punten
Dus ___ x ___ = ___



Ik tel ___ zakjes met ___ knikkers
Dus ___ x ___ = ___



Ik tel ___ rijen met ___ bomen
Dus ___ x ___ = ___



Ik tel ___ rijen met ___ vakken
Dus ___ x ___ = ___