

REDACTIESOMMEN E4

BOEKJE 2

Naam:

Gebruik het
stappenplan om
tot het antwoord
te komen!

1. Opdracht lezen
2. Plaatje van maken in jouw hoofd
3. Informatie onderstrepen
4. Tekening of som maken
5. Uitrekenen
6. Antwoord opschrijven
7. Controleren

WWW.JUFJASMIJNOVERONDERWIJS.NL



@JUFJASMIJNOVERONDERWIJS


LES 1: EEN HALF UUR LATER

BIJ MIJ GING HET ZO:




Lotte en Mira hebben om 9 uur afgesproken. Lotte belt dat zij een half uur later is. Hoe laat komt Lotte aan?

_____uur




Jade en Rick hebben om 12 uur afgesproken. Jade belt dat zij een half uur later is. Hoe laat komt Jade aan?

_____uur




Milan en Niekos hebben om 7 uur afgesproken. Niekos belt dat hij een half uur later is. Hoe laat komt Niekos aan?

_____uur



Vera en Joppe hebben om 3 uur afgesproken. Vera belt dat zij een half uur later is. Hoe laat komt Vera aan?

_____uur



Nick en Niek hebben om 6 uur afgesproken. Niek belt dat hij een half uur later is. Hoe laat komt Niek aan?

_____uur



LES 2: EEN HALF UUR LATER


BIJ MIJ GING HET ZO:



HERHALING


Lotte en Mira hebben om 8 uur afgesproken. Lotte belt dat zij een half uur later is. Hoe laat komt Lotte aan?

_____uur




Jade en Rick hebben om 2 uur afgesproken. Jade belt dat zij een half uur later is. Hoe laat komt Jade aan?

_____uur




Melle en Niekos hebben om 5 uur afgesproken. Niekos belt dat hij een half uur later is. Hoe laat komt Niekos aan?

_____uur




Vera en Yasmin hebben om 4 uur afgesproken. Vera belt dat zij een half uur later is. Hoe laat komt Vera aan?

_____uur



Ro en Niek hebben om 11 uur afgesproken. Niek belt dat hij een half uur later is. Hoe laat komt Niek aan?

_____uur



LES 3: DE HELFT

BIJ MIJ GING HET ZO:



Op de voetbaltraining draagt de helft van het team het trainingspak van de club. Er doen 42 spelers mee met de training. Hoeveel spelers dragen een trainingspak van de club?

_____spelers dragen een trainingspak

Op het prinsessenfeestje van Yara, draagt de helft van de kinderen een prinsessenjurk. Er zijn 26 kinderen op het feestje. Hoeveel kinderen dragen een prinsessenjurk?

_____kinderen dragen een prinsessenjurk

Op de schoolfoto draagt de helft van de kinderen een nette blouse. Er staan 18 kinderen op de schoolfoto. Hoeveel kinderen dragen een nette blouse?

_____kinderen dragen een nette blouse

In de bus moet de helft van de passagiers uitstappen bij de volgende halte. Er zitten 48 passagiers in de bus. Hoeveel mensen stappen bij de volgende halte uit de bus?

_____mensen stappen uit de bus

Bij zwemles is de helft van de leerlingen een meisje. Er zijn 28 leerlingen die mee doen met de zwemles. Hoeveel meisjes doen er mee met de zwemles?

_____meisjes doen mee met de zwemles



HERHALEN

Op de voetbaltraining draagt de helft van het team het trainingspak van de club. Er doen 44 spelers mee met de training. Hoeveel spelers dragen een trainingspak van de club?

_____spelers dragen een trainingspak

Op het prinsessenfeestje van Yara, draagt de helft van de kinderen een prinsessenjurk. Er zijn 22 kinderen op het feestje. Hoeveel kinderen dragen een prinsessenjurk?

_____kinderen dragen een prinsessenjurk

Op de schoolfoto draagt de helft van de kinderen een nette blouse. Er staan 66 kinderen op de schoolfoto. Hoeveel kinderen dragen een nette blouse?

_____kinderen dragen een nette blouse

In de bus moet de helft van de passagiers uitstappen bij de volgende halte. Er zitten 82 passagiers in de bus. Hoeveel mensen stappen bij de volgende halte uit de bus?

_____mensen stappen uit de bus

Bij zwemles is de helft van de leerlingen een meisje. Er zijn 24 leerlingen die mee doen met de zwemles. Hoeveel meisjes doen er mee met de zwemles?

_____meisjes doen mee met de zwemles

LES 5: VERDELEN

BIJ MIJ GING HET ZO:



Juf Diede heeft 30 paaseieren. Zij doet 5 paaseieren in een doosje. Hoeveel doosjes kan juf Diede volmaken?

_____doosjes

Milan heeft 22 bloemen. Hij doet 2 bloemen in een vaas. Hoeveel vazen kan Milan volmaken?

_____vazen

Remy heeft 33 voetballen. Hij doet 3 voetballen in een net. Hoeveel netten kan Remy volmaken?

_____vazen

Marijn heeft 36 taartjes. Zij doet 6 taartjes in een doos. Hoeveel dozen kan Marijn volmaken?

_____dozen

Sylvia heeft 28 strikken. Zij doet 4 strikken op elk cadeautje. Hoeveel cadeautjes kan Sylvia versieren?

_____cadeautjes

LES 6: VERDELEN

BIJ MIJ GING HET ZO:



HERHALEN

Juf Diede heeft 25 paaseieren. Zij doet 5 paaseieren in een doosje. Hoeveel doosjes kan juf Diede volmaken?

_____doosjes

Milan heeft 18 bloemen. Hij doet 2 bloemen in een vaas. Hoeveel vazen kan Milan volmaken?

_____vazen

Remy heeft 9 voetballen. Hij doet 3 voetballen in een net. Hoeveel netten kan Remy volmaken?

_____vazen

Marijn heeft 42 taartjes. Zij doet 6 taartjes in een doos. Hoeveel dozen kan Marijn volmaken?

_____dozen

Sylvia heeft 36 strikken. Zij doet 4 strikken op elk cadeautje. Hoeveel cadeautjes kan Sylvia versieren?

_____cadeautjes

LES 7: HUISNUMMERS

BIJ MIJ GING HET ZO:



Het huisnummer van het eerste huis is 44. Wat is het huisnummer van het vierde huis?

Huisnummer:_____



Het huisnummer van het eerste huis is 28. Wat is het huisnummer van het vierde huis?

Huisnummer:_____



Het huisnummer van het eerste huis is 19. Wat is het huisnummer van het vierde huis?

Huisnummer:_____



Het huisnummer van het eerste huis is 73. Wat is het huisnummer van het vierde huis?

Huisnummer:_____



Het huisnummer van het eerste huis is 88. Wat is het huisnummer van het vierde huis?

Huisnummer:_____



LES 8: HUISNUMMERS

BIJ MIJ GING HET ZO:



HERHALEN

Het huisnummer van het eerste huis is 55. Wat is het huisnummer van het vierde huis?

Huisnummer:_____



Het huisnummer van het eerste huis is 61. Wat is het huisnummer van het vierde huis?

Huisnummer:_____



Het huisnummer van het eerste huis is 89. Wat is het huisnummer van het vierde huis?

Huisnummer:_____



Het huisnummer van het eerste huis is 36. Wat is het huisnummer van het vierde huis?

Huisnummer:_____



Het huisnummer van het eerste huis is 76. Wat is het huisnummer van het vierde huis?

Huisnummer:_____



LES 9: EERLIJK VERDELEN

BIJ MIJ GING HET ZO:



Moustafa heeft 20 knikkers. Hij verdeelt deze knikkers eerlijk onder 4 vrienden. Hoeveel knikkers krijgt elke vriend?

_____knikkers



Laura heeft 12 stickers. Zij verdeelt deze stickers eerlijk onder 4 nichtjes. Hoeveel stickers krijgt elk nichtje?

_____stickers



Bob heeft 15 sleutelhangers. Hij verdeelt deze sleutelhangers eerlijk onder 5 vrienden. Hoeveel sleutelhangers krijgt elke vriend?

_____sleutelhangers



Minke heeft 18 snoepjes. Zij verdeelt deze stickers eerlijk onder 3 vriendinnen. Hoeveel stickers krijgt elk vriendin?

_____snoepjes



Lisa heeft 24 pokémonkaarten. Zij verdeelt deze kaarten eerlijk onder 6 vriendinnen. Hoeveel kaarten krijgt elk vriendin?

_____kaarten



LES 10: EERLIJK VERDELEN

BIJ MIJ GING HET ZO:



HERHALEN

Moustafa heeft 20 knikkers. Hij verdeelt deze knikkers eerlijk onder 4 vrienden. Hoeveel knikkers krijgt elke vriend?

_____knikkers



Laura heeft 24 stickers. Zij verdeelt deze stickers eerlijk onder 4 nichtjes. Hoeveel stickers krijgt elk nichtje?

_____stickers



Bob heeft 25 sleutelhangers. Hij verdeelt deze sleutelhangers eerlijk onder 5 vrienden. Hoeveel sleutelhangers krijgt elke vriend?

_____sleutelhangers



Minke heeft 24 snoepjes. Zij verdeelt deze stickers eerlijk onder 3 vriendinnen. Hoeveel stickers krijgt elk vriendin?

_____snoepjes



Lisa heeft 54 pokémonkaarten. Zij verdeelt deze kaarten eerlijk onder 6 vriendinnen. Hoeveel kaarten krijgt elk vriendin?

_____kaarten



LES II: VERSCHIL UITREKENEN

BIJ MIJ GING HET ZO:



Op de snelweg mag je niet harder rijden dan 100 kilometer per uur. Jelle rijdt 120 kilometer per uur. Hoeveel rijdt hij te hard?

_____ kilometer per uur

Op de weg mag je niet harder rijden dan 60 kilometer per uur. Marlyn rijdt 86 kilometer per uur. Hoeveel rijdt zij te hard?

_____ kilometer per uur

Op de weg mag je niet harder rijden dan 50 kilometer per uur. Julia rijdt 72 kilometer per uur. Hoeveel rijdt zij te hard?

_____ kilometer per uur

Op de weg mag je niet harder rijden dan 30 kilometer per uur. Merel rijdt 39 kilometer per uur. Hoeveel rijdt zij te hard?

_____ kilometer per uur

Op de snelweg mag je niet harder rijden dan 130 kilometer per uur. Niek rijdt 151 kilometer per uur. Hoeveel rijdt hij te hard?

_____ kilometer per uur

LES 12: VERSCHIL UITREKENEN

BIJ MIJ GING HET ZO:



HERALEN

Op de snelweg mag je niet harder rijden dan 100 kilometer per uur. Jelle rijdt 132 kilometer per uur. Hoeveel rijdt hij te hard?

_____ kilometer per uur

Op de weg mag je niet harder rijden dan 40 kilometer per uur. Marlyn rijdt 71 kilometer per uur. Hoeveel rijdt zij te hard?

_____ kilometer per uur

Op de weg mag je niet harder rijden dan 50 kilometer per uur. Julia rijdt 64 kilometer per uur. Hoeveel rijdt zij te hard?

_____ kilometer per uur

Op de weg mag je niet harder rijden dan 30 kilometer per uur. Merel rijdt 83 kilometer per uur. Hoeveel rijdt zij te hard?

_____ kilometer per uur

Op de snelweg mag je niet harder rijden dan 130 kilometer per uur. Niek rijdt 144 kilometer per uur. Hoeveel rijdt hij te hard?

_____ kilometer per uur

TEST JEZELF!

BIJ MIJ GING HET ZO:



Op het prinsessenfeestje van Yara, draagt de helft van de kinderen een prinsessenjurk. Er zijn 28 kinderen op het feestje. Hoeveel kinderen dragen een prinsessenjurk?

_____kinderen dragen een prinsessenjurk

Het huisnummer van het eerste huis is 44. Wat is het huisnummer van het vierde huis?



Huisnummer:_____

Remy heeft 21 voetballen. Hij doet 3 voetballen in een net. Hoeveel netten kan Remy volmaken?

_____vazen


Minke heeft 27 snoepjes. Zij verdeelt deze stickers eerlijk onder 3 vriendinnen. Hoeveel stickers krijgt elk vriendin?

_____snoepjes



Ro en Niek hebben om 10 uur afgesproken. Niek belt dat hij een half uur later is. Hoe laat komt Niek aan?

_____uur



TEST JEZELF!

BIJ MIJ GING HET ZO:




Juf Diede heeft 30 paaseieren. Zij doet 5 paaseieren in een doosje. Hoeveel doosjes kan juf Diede volmaken?

_____doosjes

Jade en Rick hebben om 5 uur afgesproken. Jade belt dat zij een half uur later is. Hoe laat komt Jade aan?

_____uur



Op de schoolfoto draagt de helft van de kinderen een nette blouse. Er staan 32 kinderen op de schoolfoto. Hoeveel kinderen dragen een nette blouse?

_____kinderen dragen een nette blouse

Op de weg mag je niet harder rijden dan 30 kilometer per uur. Merel rijdt 68 kilometer per uur. Hoeveel rijdt zij te hard?

_____ kilometer per uur

Lisa heeft 18 pokémonkaarten. Zij verdeelt deze kaarten eerlijk onder 6 vriendinnen. Hoeveel kaarten krijgt elk vriendin?

_____kaarten

