

REDACTIESOMMEN E3M4

BOEKJE 1

Naam:

Gebruik het
stappenplan om
tot het antwoord
te komen!

1. Opdracht lezen

2. Plaatje van maken in jouw hoofd

3. Informatie onderstrepen

4. Tekening of som maken

5. Uitrekenen

6. Antwoord opschrijven

7. Controleren

WWW.JUFJASMIJNOVERONDERWIJS.NL



@JUFJASMIJNOVERONDERWIJS

LES 1: VERDELEN

BIJ MIJ GING HET ZO:



De buurvrouw heeft 15 appels. Ze stopt 5 appels in een tasje.
Hoeveel tasjes heeft zij nodig?

_____tasjes

De bakker heeft 8 gebakjes. Hij stopt 2 gebakjes in een doosje.
Hoeveel doosjes heeft hij nodig?

_____doosjes

De dierenverzorger heeft 14 parkieten. Zij stopt 7 parkieten in
een kooi. Hoeveel kooien heeft zij nodig?

_____kooien

De schooljuf heeft 16 kleurpotloden. Zij stopt 4 kleurpotloden in
een beker. Hoeveel bekers heeft zij nodig?

_____bekers

De bloemist heeft 18 rozen. Hij stopt 6 rozen in een boeket.
Hoeveel boeketten kan hij maken?

_____boeketten

LES 2: VERDELEN

BIJ MIJ GING HET ZO:



HERHALEN

De buurvrouw heeft 25 appels. Ze stopt 5 appels in een tasje.
Hoeveel tasjes heeft zij nodig?

_____tasjes

De bakker heeft 9 gebakjes. Hij stopt 3 gebakjes in een doosje.
Hoeveel doosjes heeft hij nodig?

_____doosjes

De dierenverzorger heeft 21 parkieten. Zij stopt 7 parkieten in
een kooi. Hoeveel kooien heeft zij nodig?

_____kooien

De schooljuf heeft 20 kleurpotloden. Zij stopt 4 kleurpotloden in
een beker. Hoeveel bekers heeft zij nodig?

_____bekers

De bloemist heeft 32 rozen. Hij stopt 8 rozen in een boeket.
Hoeveel boeketten kan hij maken?


_____boeketten

LES 3: TIJD UITREKENEN

BIJ MIJ GING HET ZO:




Lotte kijkt op de klok en ziet dat het 3 uur is. Lotte is al 1 uur onderweg. Hoe laat is zij vertrokken?




_____uur

Milan kijkt op de klok en ziet dat het 6 uur is. Milan is al 2 uur onderweg. Hoe laat is hij vertrokken?




_____uur

Leyla kijkt op de klok en ziet dat het 4 uur is. Leyla is al 3 uur onderweg. Hoe laat is zij vertrokken?




_____uur

Yousuf kijkt op de klok en ziet dat het 1 uur is. Yousuf is al 4 uur onderweg. Hoe laat is hij vertrokken?



_____uur

Rein kijkt op de klok en ziet dat het 8 uur is. Rein is al 2 uur onderweg. Hoe laat is hij vertrokken?



_____uur


LES 4: TIJD UITREKENEN

BIJ MIJ GING HET ZO:




HERHALEN

Lotte kijkt op de klok en ziet dat het 7 uur is. Lotte is al 3 uur onderweg. Hoe laat is zij vertrokken?




_____uur

Milan kijkt op de klok en ziet dat het 2 uur is. Milan is al 2 uur onderweg. Hoe laat is hij vertrokken?




_____uur

Leyla kijkt op de klok en ziet dat het 10 uur is. Leyla is al 5 uur onderweg. Hoe laat is zij vertrokken?




_____uur

Yousuf kijkt op de klok en ziet dat het 9 uur is. Yousuf is al 2 uur onderweg. Hoe laat is hij vertrokken?



_____uur

Rein kijkt op de klok en ziet dat het 11 uur is. Rein is al 7 uur onderweg. Hoe laat is hij vertrokken?



_____uur

LES 5: VERHOUDING UITREKENEN BIJ MIJ GING HET ZO:



Met 1 tube verf kun je vijf schilderdoeken beschilderen. Hoeveel schilderdoeken kan ik beschilderen met 3 tubes?

_____schilderdoeken

Met 1 potje zout kan ik 10 bakjes friet bestrooien. Hoeveel bakjes friet kan ik bestrooien met 2 potjes zout?

_____bakjes friet

Met 1 pot pindakaas kan ik 4 wafels besmeren. Hoeveel wafels kan ik besmeren met 4 potten pindakaas?

_____wafels

Met 1 fles cola kan ik 7 glazen vol schenken. Hoeveel glazen kan ik vol schenken met 4 flessen cola?

_____glazen

Met 1 stickervel kan ik 5 werkbladen beplakken. Hoeveel werkbladen kan ik beplakken met 5 stickervellen?

_____werkbladen

LES 6: VERHOUDING UITREKENEN BIJ MIJ GING HET ZO:



HERHALEN

Met 1 tube verf kun je 4 schilderdoeken beschilderen. Hoeveel schilderdoeken kan ik beschilderen met 2 tubes?

_____schilderdoeken

Met 1 potje zout kan ik 6 bakjes friet bestrooien. Hoeveel bakjes friet kan ik bestrooien met 3 potjes zout?

_____bakjes friet

Met 1 pot pindakaas kan ik 5 wafels besmeren. Hoeveel wafels kan ik besmeren met 3 potten pindakaas?

_____wafels

Met 1 fles cola kan ik 4 glazen vol schenken. Hoeveel glazen kan ik vol schenken met 5 flessen cola?

_____glazen

Met 1 stickervel kan ik 7 werkbladen beplakken. Hoeveel werkbladen kan ik beplakken met 3 stickervellen?

_____werkbladen

LES 7: ERBIJSOM UITREKENEN

BIJ MIJ GING HET ZO:



Lisa deelt eigen gemaakte kaarten uit. Ze heeft twee stapels met kaarten. Een stapel van 15 kaarten en een stapel van 12 kaarten. Hoeveel kaarten zijn dat samen?

_____kaarten

Merijn heeft zakken met voetballen. Hij heeft een zak met 22 voetballen en een zak met 13 voetballen. Hoeveel voetballen zijn dat samen?

_____voetballen

Oma bakt appelflappen. Zij heeft een schaal met 16 appelflappen en een schaal met 22 appelflappen. Hoeveel appelflappen zijn dat samen?

_____appelflappen

Papa koopt in de winkel frisdrank. Hij heeft een kratje met 12 frisdrankflessen en een kratje met 14 frisdrankflessen. Hoeveel flessen zijn dat samen?

_____flessen

Jorrit heeft stickervellen met stickers. Hij heeft een stickervel met 25 stickers en een stickervel met 21 stickers. Hoeveel stickers zijn dat samen?

_____stickers



HERHALEN

Lisa deelt eigen gemaakte kaarten uit. Ze heeft twee stapels met kaarten. Een stapel van 28 kaarten en een stapel van 11 kaarten. Hoeveel kaarten zijn dat samen?

_____kaarten

Merijn heeft zakken met voetballen. Hij heeft een zak met 11 voetballen en een zak met 18 voetballen. Hoeveel voetballen zijn dat samen?

_____voetballen

Oma bakt appelflappen. Zij heeft een schaal met 24 appelflappen en een schaal met 15 appelflappen. Hoeveel appelflappen zijn dat samen?

_____appelflappen

Papa koopt in de winkel frisdrank. Hij heeft een kratje met 16 frisdrankflessen en een kratje met 22 frisdrankflessen. Hoeveel flessen zijn dat samen?

_____flessen

Jorrit heeft stickervellen met stickers. Hij heeft een stickervel met 13 stickers en een stickervel met 14 stickers. Hoeveel stickers zijn dat samen?

_____stickers

LES 9: 1 EURO = 100 EUROCENT

BIJ MIJ GING HET ZO:



Ralf koopt een lolly voor 70 cent. Hij betaalt met 1 euro. Hoeveel cent krijgt hij terug?

_____cent

Kitty koopt een armbandje voor 60 cent. Zij betaalt met 1 euro. Hoeveel cent krijgt zij terug?

_____cent

Dex koopt een appel voor 75 cent. Hij betaalt met 1 euro. Hoeveel cent krijgt hij terug?

_____cent

Bente koopt een knoop voor 25 cent. Zij betaalt met 1 euro. Hoeveel cent krijgt zij terug?

_____cent

Ize koopt een schilmes voor 15 cent. Zij betaalt met 1 euro. Hoeveel cent krijgt zij terug?

_____cent



HERHALEN

Nick koopt een lolly voor 85 cent. Hij betaalt met 1 euro. Hoeveel cent krijgt hij terug?

_____cent

Yvon koopt een armbandje voor 50 cent. Zij betaalt met 1 euro. Hoeveel cent krijgt zij terug?

_____cent

Wouter koopt een appel voor 90 cent. Hij betaalt met 1 euro. Hoeveel cent krijgt hij terug?

_____cent

Margreet koopt een knoop voor 20 cent. Zij betaalt met 1 euro. Hoeveel cent krijgt zij terug?

_____cent

Warner koopt een schilmes voor 55 cent. Hij betaalt met 1 euro. Hoeveel cent krijgt hij terug?

_____cent

LES II: EERLIJK VERDELEN

BIJ MIJ GING HET ZO:



Jesse, Robin, Niek en Kerim verdelen 20 snoepjes. Ieder krijgt evenveel snoepjes. Hoeveel snoepjes krijgt ieder kind?

_____snoepjes



Laura, Lana, Lisa en Lena verdelen 8 armbanden. Iedere dame krijgt evenveel armbanden. Hoeveel armbanden krijgt iedere dame?

_____armbanden



Vijf jongens verdelen de bak met 20 pokemonkaarten eerlijk. Hoeveel krijgt iedere jongen?

_____pokemonkaarten



Minke, Jennifer en Dapnhe hebben 24 kralen. Zij verdelen deze kralen eerlijk. Hoeveel kralen krijgt elke dame?

_____kralen



6 vriendinnen verdelen de 36 koekjes uit de koekjestrommel eerlijk. Hoeveel koekjes krijgt iedere dame?

_____koekjes



LES 12: EERLIJK VERDELEN

BIJ MIJ GING HET ZO:



HERHALEN

Jesse, Robin, Niek en Kerim verdelen 36 snoepjes. Ieder krijgt evenveel snoepjes. Hoeveel snoepjes krijgt ieder kind?

_____snoepjes



Laura, Lana, Lisa en Lena verdelen 16 armbanden. Iedere dame krijgt evenveel armbanden. Hoeveel armbanden krijgt iedere dame?

_____armbanden



Vijf jongens verdelen de bak met 35 pokemonkaarten eerlijk. Hoeveel krijgt iedere jongen?

_____pokemonkaarten



Minke, Jennifer en Dapnhe hebben 9 kralen. Zij verdelen deze kralen eerlijk. Hoeveel kralen krijgt elke dame?

_____kralen



6 vriendinnen verdelen de 24 koekjes uit de koekjestrommel eerlijk. Hoeveel koekjes krijgt iedere dame?

_____koekjes




TEST JEZELF!

BIJ MIJ GING HET ZO:



Lotte kijkt op de klok en ziet dat het 3 uur is. Lotte is al 6 uur onderweg. Hoe laat is zij vertrokken?



_____uur

Met 1 potje zout kan ik 11 bakjes friet bestrooien. Hoeveel bakjes friet kan ik bestrooien met 3 potjes zout?

_____bakjes friet

De dierenverzorger heeft 21 parkieten. Zij stopt 7 parkieten in een kooi. Hoeveel kooien heeft zij nodig?

_____kooien

Minke, Jennifer en Dapnhe hebben 21 kralen. Zij verdelen deze kralen eerlijk. Hoeveel kralen krijgt elke dame?



_____kralen

Warner koopt een schilmes voor 80 cent. Hij betaalt met 1 euro. Hoeveel cent krijgt hij terug?

_____cent

TEST JEZELF!

BIJ MIJ GING HET ZO:



Ralf koopt een lolly voor 45 cent. Hij betaalt met 1 euro. Hoeveel cent krijgt hij terug?

_____cent

Merijn heeft zakken met voetballen. Hij heeft een zak met 16 voetballen en een zak met 12 voetballen. Hoeveel voetballen zijn dat samen?

_____voetballen

Met 1 pot pindakaas kan ik 8 wafels besmeren. Hoeveel wafels kan ik besmeren met 2 potten pindakaas?

_____wafels

Papa koopt in de winkel frisdrank. Hij heeft een kratje met 13 frisdrankflessen en een kratje met 25 frisdrankflessen. Hoeveel flessen zijn dat samen?

_____flessen

6 vriendinnen verdelen de 42 koekjes uit de koekjestrommel eerlijk. Hoeveel koekjes krijgt iedere dame?

_____koekjes

