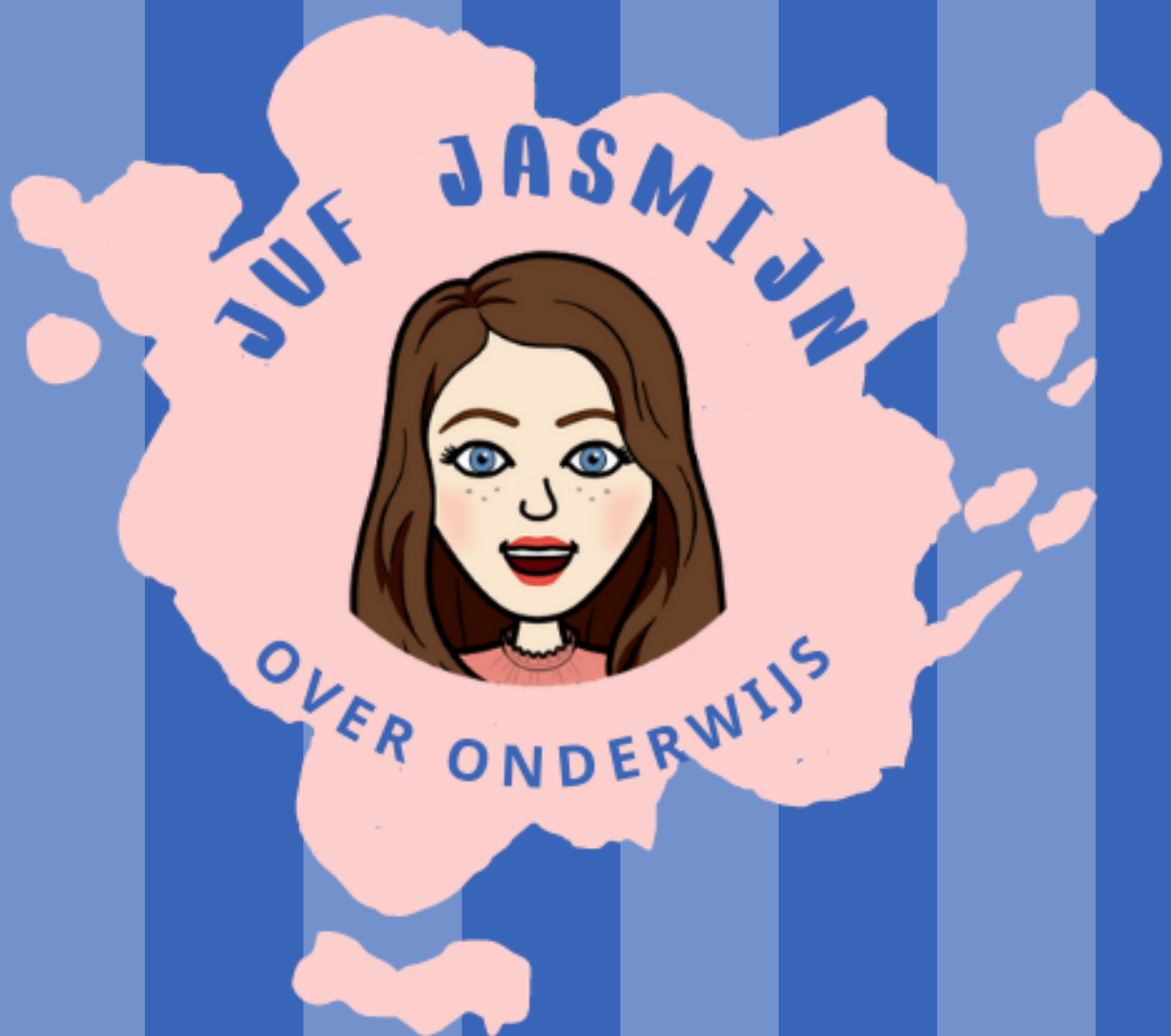


ESCAPE ROOM 3

Groep 4



# UITLEG

## **Wat kun je met deze bundel?**

Met deze bundel kun je in jouw klas een escape room spelen.

De kinderen gaan in groepjes van 4-5 leerlingen raadsels oplossen om samen de code te kraken. De nadruk ligt vooral op samenwerken. In het kistje wacht een leuke verrassing.

Mocht je geen kistje met driecijferig codeslot en hangslot hebben, dan kun je de kinderen het 'onthoudblad' laten gebruiken om de code op te schrijven en aan jou te laten zien om de code te kraken.

## **Wat heb je nodig?**

Je hebt 6 kleine kistjes en 6 cijferslotjes nodig. Je kunt er nog een vierde opdracht aan toevoegen, door ook 6 hangslotjes te gebruiken. Verder moeten er scharen en lijm beschikbaar zijn.


## **Vorbereiding:**

Lees de opdrachten uit deze bundel. Print de gehele bundel.

Stop de beloningskaartjes in de kistjes en maak de kistjes dicht met het cijferslot (code: 341) en een hangslotje. Bewaar de sleutel van het hangslot ergens, waar de kinderen ze niet zien.

Niet de bladen van elke opdracht en kleur aan elkaar vast en geef elk groepje de juiste stapel met opdrachtkaarten. Geef ook het kistje met dichte sloten hierbij.

**En... spelen maar!**



# BERICHT VOOR IEDERE DEELNEMER!

LEES DE BRIEF VOOR OF LEES  
SAMEN. MAAK VOOR DE START  
VAN DE ESCAPE ROOM  
DUIDELIJKE AFSPRAKEN.


Je hebt een groepje gevormd. Voor jullie neus ligt een (*kleur*) kistje. Het is de bedoeling dat jullie dit (*kleur*) kistje samen open krijgen. Dat gaat niet gemakkelijk, want er hangen slotjes aan.

Om het kistje open te krijgen en de verrassing te achterhalen, moeten jullie raadsels oplossen. Dit doe je **samen**.

Bij samenwerken is het belangrijk om..

- .. te overleggen.
- .. naar elkaar te luisteren.
- .. elkaar uit te laten praten.
- .. elkaar complimenten te geven.
- .. elkaar te helpen als dat nodig is.

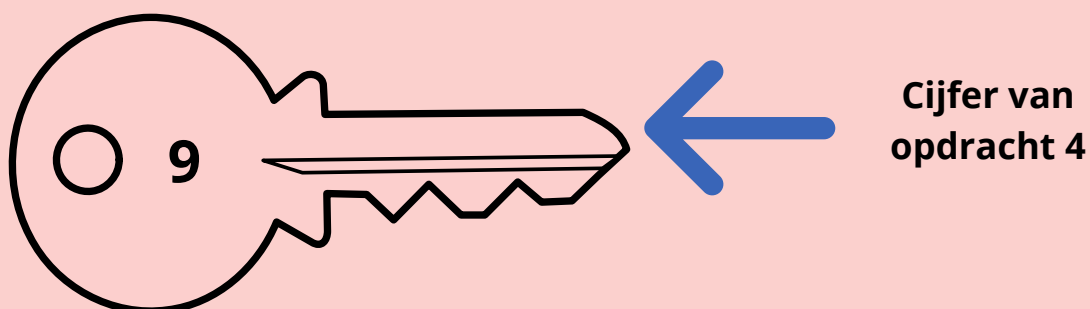
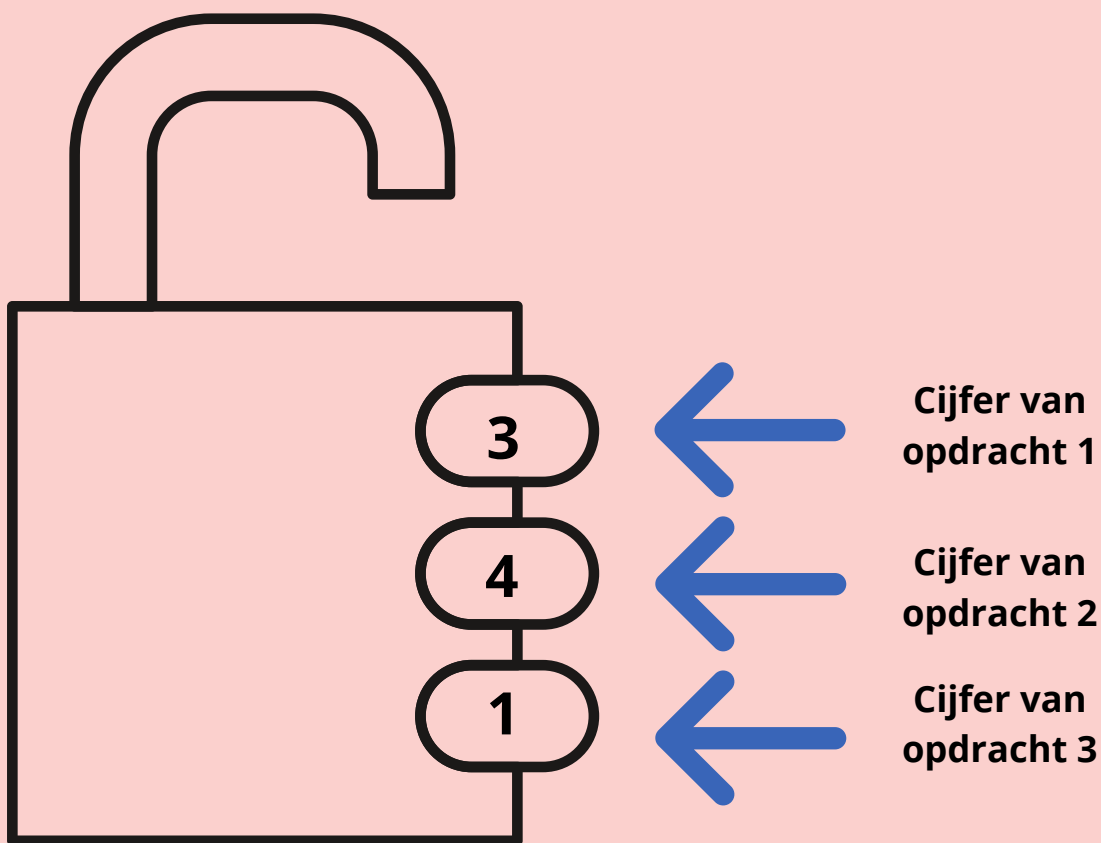
**Ik vertrouw op jullie! Heel veel succes.**



# DE CODE GEMAKKELIJK ONTHOUDEN - NAKIJKBLAD

Bij opdracht 1 tot en met opdracht 4 ontrafelen de kinderen één cijfer. Zie de juiste cijfercombinatie hieronder.

Dit werkblad kan ingezet worden als geheugensteun, maar ook als middel om aan te tonen dat zij de code gekraakt hebben (mocht je geen kistjes met slotjes hebben). De kinderen leveren dit werkblad in, met de juiste code, om groenlicht van jou als leerkracht te krijgen voor het kraken van de code.






# OPDRACHT 1 – NAKIJKBLAD

## Los de leeskraker op:

Voor het lokaal staan vier tassen. In iedere tas zit een cijfer. Lees, kleur, knip en plak.

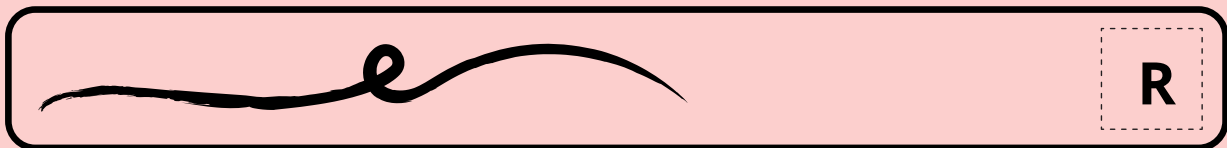
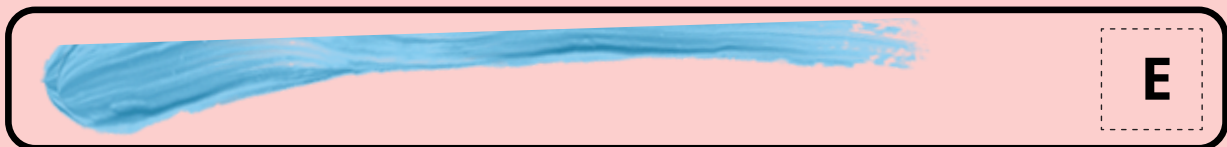

*De eerste schooltas is rood.  
De tas met het cijfer 2 staat naast de rode tas.  
De groene tas staat tussen de blauwe en gele tas.  
In de blauwe tas zit het cijfer 6.  
Het cijfer 8 zit niet in de rode tas.  
Het juiste cijfer voor jullie code zit in de rode tas.*



# OPDRACHT 2 – NAKIJKBLAD

Gebruik de liniaal van de volgende bladzijde om het tweede cijfer te ontrafelen. Ga zo te werk:

1. Knip de liniaal uit.
2. Meet onderstaande lijnen.
3. Lees de juiste letter af.
4. Noteer de letters achter de lijnen.




# OPDRACHT 3 – NAKIJKBLAD

Gebruik de kaartjes van de bladzijdes hierna. Ga zo te werk:

1. Knip de kaartjes uit.
2. Bereken het juiste getal bij het kaartje.
3. Schrijft het getal op het kaartje.
4. Leg de kaartjes op de goede volgorde.
5. Liggen ze goed? Haal de **tip** op bij juf of meester.


De gouden tip die je aan de kinderen geeft is: **het derde cijfer van de code is het antwoord van het eerste kaartje.**





Het getal dat bij dit kaartje hoort is:

12



Het getal dat bij dit kaartje hoort is:

9

Mira verkoopt kinderpostzegels voor haar school. Op zaterdag verkoopt zij 13 zegels en op zondag 34 zegels.

Hoeveel zegels heeft zij in totaal verkocht?

Het getal dat bij dit kaartje hoort is:

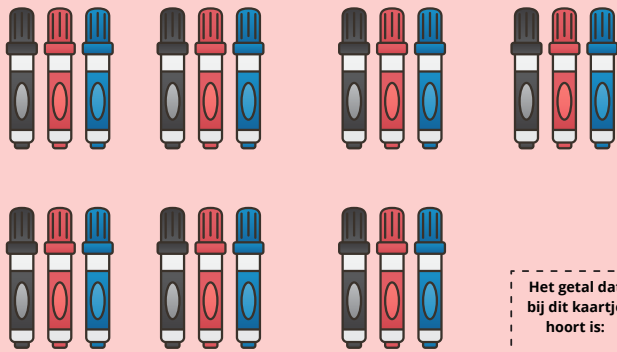
47

Anne heeft 5 dozen met elk 5 truien in de verhuisbus staan.

Hoeveel truien zijn dat samen?


Het getal dat bij dit kaartje hoort is:

25



Het getal dat bij dit kaartje hoort is:

21



Het getal dat bij dit kaartje hoort is:


63

Anne koopt drie tijdschriften. De tijdschriften kosten 16 euro, 18 euro en 20 euro.

Hoeveel euro moet Anne betalen bij de kassa?

Het getal dat bij dit kaartje hoort is:

54




Het getal dat bij dit kaartje hoort is:

24




Het getal dat bij dit kaartje hoort is:

**55**



Het getal dat bij dit kaartje hoort is:

**8**



Het getal dat bij dit kaartje hoort is:


**18**

Vera en Monika verzamelen allerlei verschillende bloemen. Vera plukt 27 bloemen en Monika 31.

Hoeveel bloemen zijn dat samen?

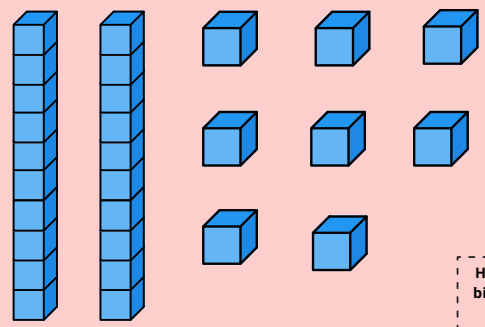
Het getal dat bij dit kaartje hoort is:

**58**



Het getal dat bij dit kaartje hoort is:

**32**



Het getal dat bij dit kaartje hoort is:


**28**

Marcel gaat naar de supermarkt en wisselt 20 munten van 10 cent in voor een euromunt.

Welke munt ontvangt hij van de medewerker?

Het getal dat bij dit kaartje hoort is:

**2**



Het getal dat bij dit kaartje hoort is:

**20**




Het getal dat bij dit kaartje hoort is:

**35**




Het getal dat bij dit kaartje hoort is:

**80**



Het getal dat bij dit kaartje hoort is:

**36**



Het getal dat bij dit kaartje hoort is:

**61**

Sierre moet 40 cent betalen voor de snoepjes die ze koopt. Ze geeft drie muntjes van 10 cent.

Hoeveel cent moet Sierre dan nog geven aan de medewerker?

Het getal dat bij dit kaartje hoort is:

**10**



Het getal dat bij dit kaartje hoort is:


**6**

De voetbalcoach heeft 50 voetballen. Alle 19 kinderen krijgen één voetbal.

Hoeveel voetballen houdt de voetbalcoach over?

Het getal dat bij dit kaartje hoort is:

**31**



Het getal dat bij dit kaartje hoort is:

**53**

Tijdens de weekmarkt verkopen Musa en zijn broertje koekjes. Musa verkoopt 52 koekjes en zijn broertje 25 koekjes.

Hoeveel koekjes hebben zij in totaal verkocht?


Het getal dat bij dit kaartje hoort is:

**77**



Het getal dat bij dit kaartje hoort is:

**60**



Het getal dat bij dit kaartje hoort is:


**42**

Donja gaat naar de supermarkt en wisselt 10 munten van 10 cent in voor een euromunt.

Welke munt ontvangt zij van de medewerker?

Het getal dat bij dit kaartje hoort is:

**1**



Het getal dat bij dit kaartje hoort is:

**26**



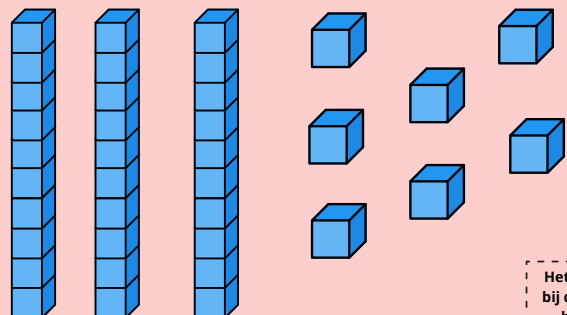
Het getal dat bij dit kaartje hoort is:

**75**



Het getal dat bij dit kaartje hoort is:

**45**



Het getal dat bij dit kaartje hoort is:

**37**



# OPDRACHT 4 - NAKIJKBLAD

1	2	3	4	5	6	7	8	9	10
11	12	13	14	15	16	17	18	19	20
21	22	23	24	25	26	27	28	29	30
31	32	33	34	35	36	37	38	39	40
41	42	43	44	45	46	47	48	49	50
51	52	53	54	55	56	57	58	59	60
61	62	63	64	65	66	67	68	69	70
71	72	73	74	75	76	77	78	79	80
81	82	83	84	85	86	87	88	89	90
91	92	93	94	95	96	97	98	99	100



# Gefeliciteerd

DOOR EEN GOEDE SAMENWERKING  
HEBBEN JULLIE DE CODE GEKRAAKT!

JULLIE MOGEN EEN ENERGIZER  
BEDENKEN OM MET DE KLAS TE  
SPELEN.



# Gefeliciteerd

DOOR EEN GOEDE SAMENWERKING  
HEBBEN JULLIE DE CODE GEKRAAKT!


JULLIE MOGEN EEN ENERGIZER  
BEDENKEN OM MET DE KLAS TE  
SPELEN.



# Gefeliciteerd

DOOR EEN GOEDE SAMENWERKING  
HEBBEN JULLIE DE CODE GEKRAAKT!

JULLIE MOGEN EEN ENERGIZER  
BEDENKEN OM MET DE KLAS TE  
SPELEN.



# Gefeliciteerd

DOOR EEN GOEDE SAMENWERKING  
HEBBEN JULLIE DE CODE GEKRAAKT!

JULLIE MOGEN EEN ENERGIZER  
BEDENKEN OM MET DE KLAS TE  
SPELEN.



# Gefeliciteerd

DOOR EEN GOEDE SAMENWERKING  
HEBBEN JULLIE DE CODE GEKRAAKT!

JULLIE MOGEN EEN ENERGIZER  
BEDENKEN OM MET DE KLAS TE  
SPELEN.



# Gefeliciteerd

DOOR EEN GOEDE SAMENWERKING  
HEBBEN JULLIE DE CODE GEKRAAKT!

JULLIE MOGEN EEN ENERGIZER  
BEDENKEN OM MET DE KLAS TE  
SPELEN.

