

START

# BERICHT VOOR IEDERE DEELNEMER!


Je hebt een groepje gevormd. Voor jullie neus ligt een groen kistje. Het is de bedoeling dat jullie dit groene kistje samen open krijgen. Dat gaat niet gemakkelijk, want er hangen slotjes aan.

Om het kistje open te krijgen en de verrassing te achterhalen, moeten jullie raadsels oplossen. Dit doe je **samen**.

Bij samenwerken is het belangrijk om..

- .. te overleggen.
- .. naar elkaar te luisteren.
- .. elkaar uit te laten praten.
- .. elkaar complimenten te geven.
- .. elkaar te helpen als dat nodig is.

**Ik vertrouw op jullie! Heel veel succes.**

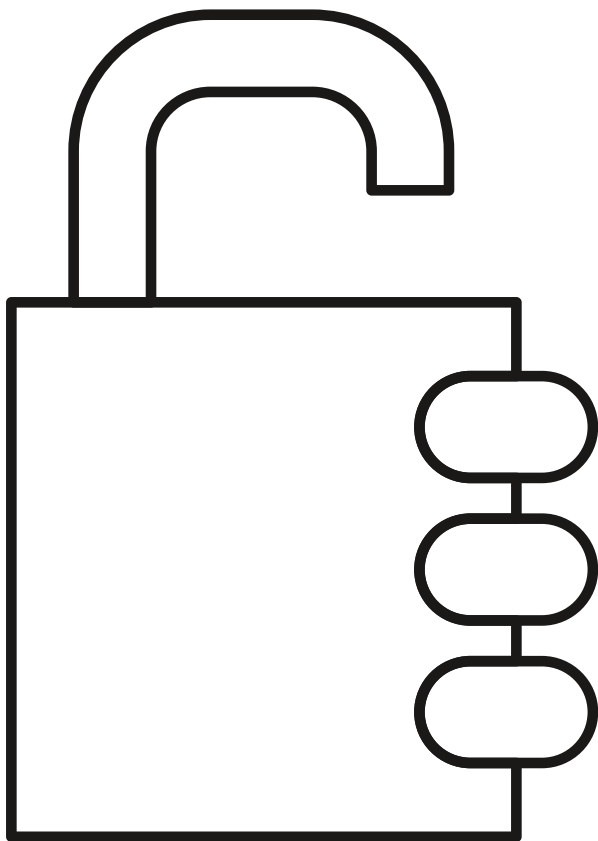




# DE CODE GEMAKKELIJK ONTHOUDEN

Team  
Groen

Bij opdracht 1 tot en met opdracht 4 ontrafel je één cijfer. Vul op dit werkblad de nummers in en laat dit aan het einde zien aan jullie juf of meester.




Cijfer van  
opdracht 1




Cijfer van  
opdracht 2



Cijfer van  
opdracht 3



Cijfer van  
opdracht 4



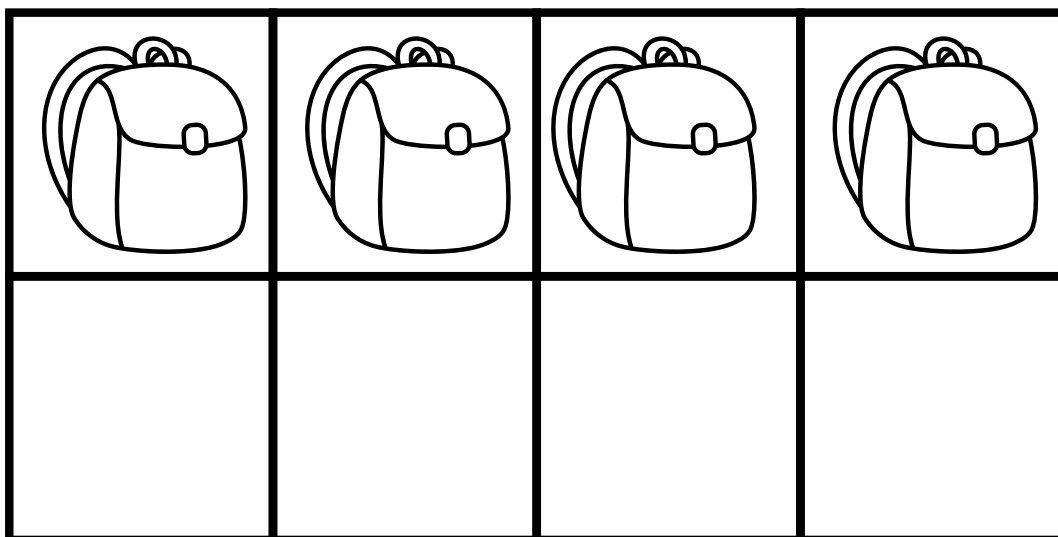
# OPDRACHT 1

# OPDRACHT 1

## Los de leeskraker op:

Voor in het lokaal staan vier tassen. In iedere tas zit een cijfer. Lees, kleur, knip en plak.

*De eerste schooltas is rood.  
De tas met het cijfer 2 staat naast de rode tas.  
De groene tas staat tussen de blauwe en gele tas.  
In de blauwe tas zit het cijfer 6.  
Het cijfer 8 zit niet in de rode tas.  
Het juiste cijfer voor jullie code zit in de rode tas.*



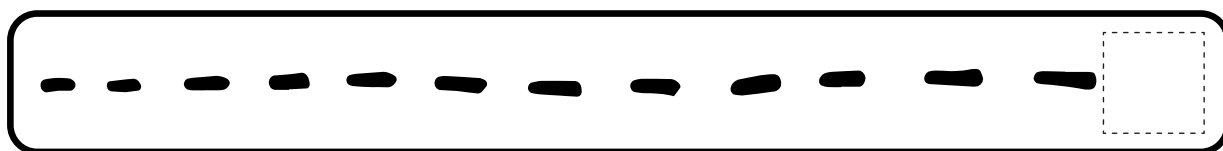


# OPDRACHT 2

# OPDRACHT 2

Gebruik de liniaal van de volgende bladzijde om het tweede cijfer te ontrafelen. Ga zo te werk:

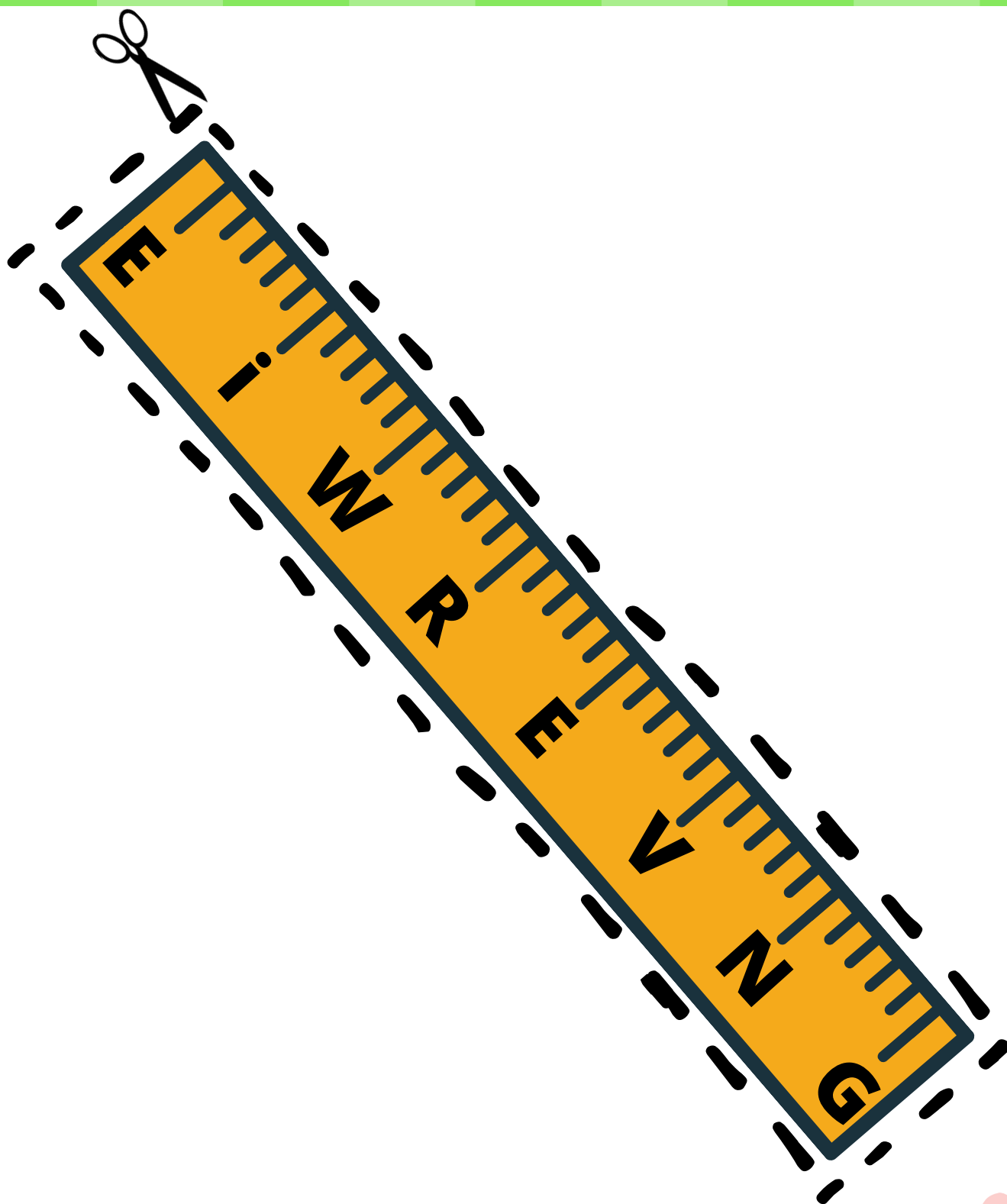
1. Knip de liniaal uit.
2. Meet onderstaande lijnen.
3. Lees de juiste letter af.
4. Noteer de letters achter de lijnen.



# OPDRACHT 2

Team  
Groen

## KNIPBLAD - LINIAAL



# OPDRACHT 3


# OPDRACHT 3

Gebruik de kaartjes van de bladzijdes hierna. Ga zo te werk:


1. Knip de kaartjes uit.
2. Bereken het juiste getal bij het kaartje.
3. Schrijft het getal op het kaartje.
4. Leg de kaartjes op de goede volgorde.
5. Liggen ze goed? Haal de **tip** op bij juf of meester.







Het getal dat bij dit kaartje hoort is:



Het getal dat bij dit kaartje hoort is:

Mira verkoopt kinderpostzegels voor haar school. Op zaterdag verkoopt zij 13 zegels en op zondag 34 zegels.

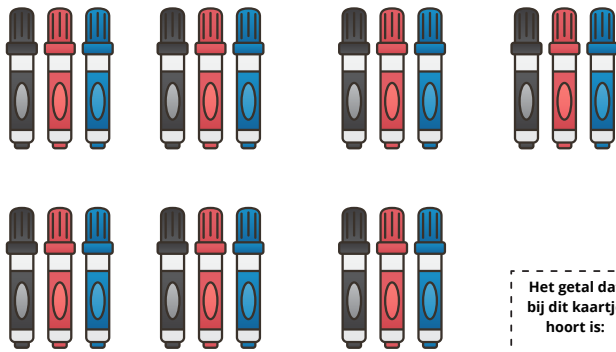
Hoeveel zegels heeft zij in totaal verkocht?

Het getal dat bij dit kaartje hoort is:

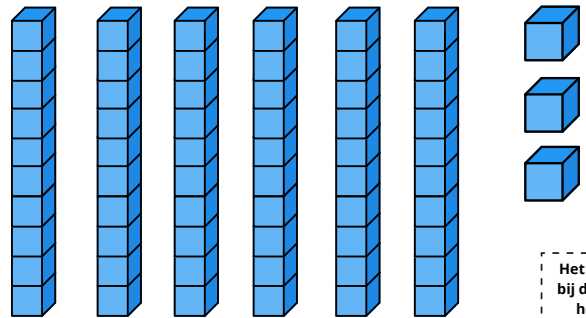
Anne heeft 5 dozen met elk 5 truien in de verhuisbus staan.

Hoeveel truien zijn dat samen?

Het getal dat bij dit kaartje hoort is:



Het getal dat bij dit kaartje hoort is:




Het getal dat bij dit kaartje hoort is:

Anne koopt drie tijdschriften. De tijdschriften kosten 16 euro, 18 euro en 20 euro.

Hoeveel euro moet Anne betalen bij de kassa?


Het getal dat bij dit kaartje hoort is:




Het getal dat bij dit kaartje hoort is:



Het getal dat bij dit kaartje hoort is:



Het getal dat bij dit kaartje hoort is:




Het getal dat bij dit kaartje hoort is:

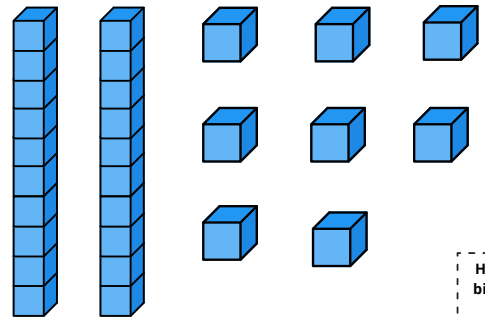
Vera en Monika verzamelen allerlei verschillende bloemen. Vera plukt 27 bloemen en Monika 31.

Hoeveel bloemen zijn dat samen?

Het getal dat bij dit kaartje hoort is:



Het getal dat bij dit kaartje hoort is:




Het getal dat bij dit kaartje hoort is:

Marcel gaat naar de supermarkt en wisselt 20 munten van 10 cent in voor een euromunt.

Welke munt ontvangt hij van de medewerker?

Het getal dat bij dit kaartje hoort is:




Het getal dat bij dit kaartje hoort is:



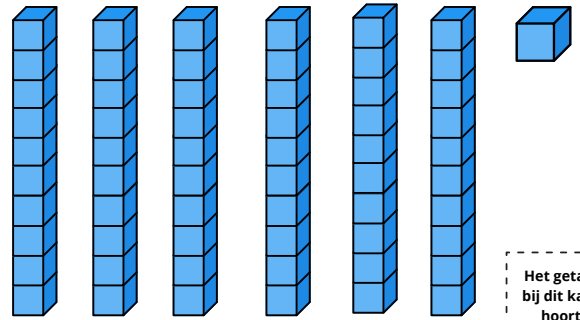
Het getal dat bij dit kaartje hoort is:



Het getal dat bij dit kaartje hoort is:



Het getal dat bij dit kaartje hoort is:



Het getal dat bij dit kaartje hoort is:

Sierre moet 40 cent betalen voor de snoepjes die ze koopt. Ze geeft drie muntjes van 10 cent.

Hoeveel cent moet Sierre dan nog geven aan de medewerker?

Het getal dat bij dit kaartje hoort is:




Het getal dat bij dit kaartje hoort is:

De voetbalcoach heeft 50 voetballen. Alle 19 kinderen krijgen één voetbal.

Hoeveel voetballen houdt de voetbalcoach over?

Het getal dat bij dit kaartje hoort is:



Het getal dat bij dit kaartje hoort is:

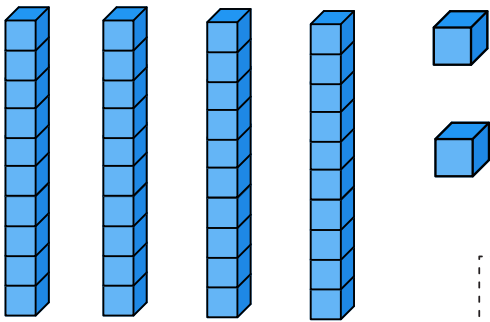
Tijdens de weekmarkt verkopen Musa en zijn broertje koekjes. Musa verkoopt 52 koekjes en zijn broertje 25 koekjes.

Hoeveel koekjes hebben zij in totaal verkocht?

Het getal dat bij dit kaartje hoort is:



Het getal dat bij dit kaartje hoort is:




Het getal dat bij dit kaartje hoort is:

Donja gaat naar de supermarkt en wisselt 10 munten van 10 cent in voor een euromunt.

Welke munt ontvangt zij van de medewerker?

Het getal dat bij dit kaartje hoort is:



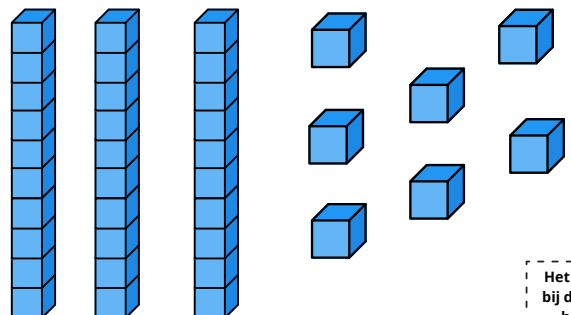
Het getal dat bij dit kaartje hoort is:



Het getal dat bij dit kaartje hoort is:



Het getal dat bij dit kaartje hoort is:



Het getal dat bij dit kaartje hoort is:


# OPDRACHT 4

# OPDRACHT 4

Hieronder zie je puzzelstukjes die samen een honderdveld vormen.

Ga zo te werk:

1. Knip de puzzelstukjes uit.
2. Maak het honderdveld compleet door de puzzelstukjes op de juiste plek te leggen.
3. Kleur de volgende getallen met jullie teamkleur: **14, 15, 16, 17, 24, 27, 34, 37, 44, 45, 46, 47, 57, 67, 74, 75, 76 en 77.**
4. Welk getal ontstaat er? Vertel dit getal aan jullie juf/meester en ontvang de laatste sleutel om het kistje te openen.



# OPDRACHT 4 - KNIPBLAD

61	62	63	64	65	66	67	68	69
71	72	73	74	75	76	77	78	79

81	82	83	84
91	92	93	94

4	5	6	7	8
14	15	16	17	18

30
40
50
60
70
80
90
100

# OPDRACHT 4 - KNIPBLAD

26	27	28	29
36	37	38	39
46	47	48	49
56	57	58	59

85	86	87	88	89
95	96	97	98	99

1	2	3
11	12	13
21	22	23

9	10
19	20

24	25
----	----

31	32	33	34	35
41	42	43	44	45
51	52	53	54	55



START

# BERICHT VOOR IEDERE DEELNEMER!


Je hebt een groepje gevormd. Voor jullie neus ligt een rood kistje. Het is de bedoeling dat jullie dit rode kistje samen open krijgen. Dat gaat niet gemakkelijk, want er hangen slotjes aan.

Om het kistje open te krijgen en de verrassing te achterhalen, moeten jullie raadsels oplossen. Dit doe je **samen**.

Bij samenwerken is het belangrijk om..

- .. te overleggen.
- .. naar elkaar te luisteren.
- .. elkaar uit te laten praten.
- .. elkaar complimenten te geven.
- .. elkaar te helpen als dat nodig is.

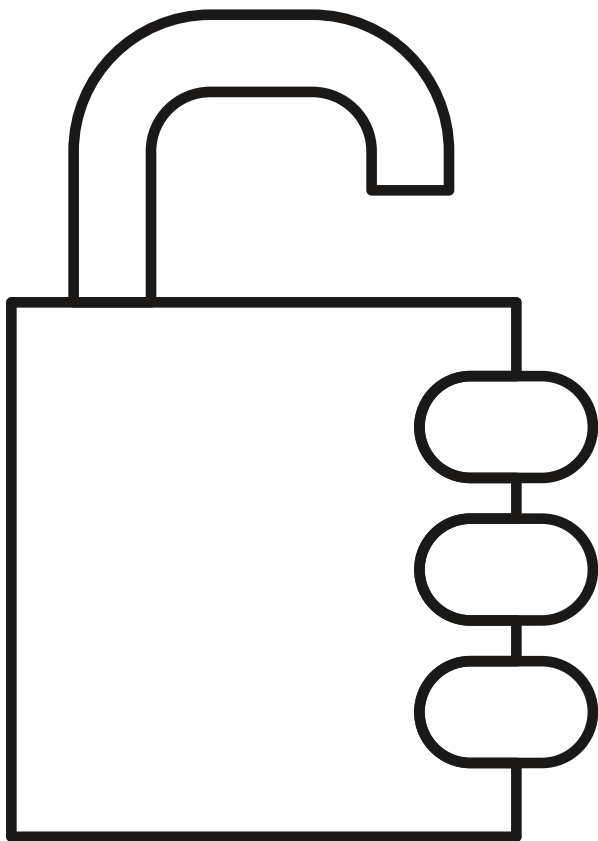
**Ik vertrouw op jullie! Heel veel succes.**



# DE CODE GEMAKKELIJK ONTHOUDEN

Team  
Rood

Bij opdracht 1 tot en met opdracht 4 ontrafel je één cijfer. Vul op dit werkblad de nummers in en laat dit aan het einde zien aan jullie juf of meester.




Cijfer van  
opdracht 1




Cijfer van  
opdracht 2



Cijfer van  
opdracht 3



Cijfer van  
opdracht 4



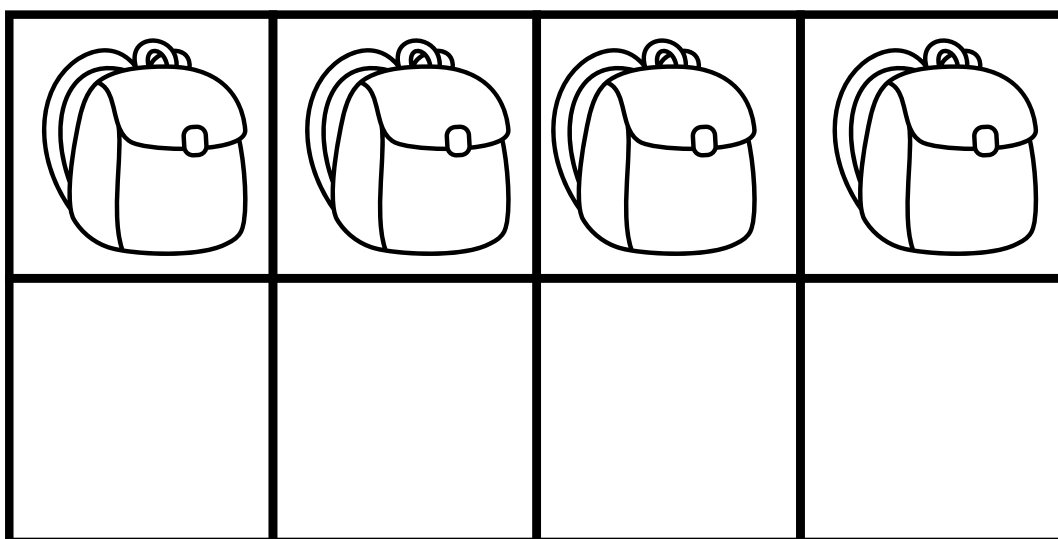
# OPDRACHT 1

# OPDRACHT 1

## Los de leeskraker op:

Voor het lokaal staan vier tassen. In iedere tas zit een cijfer. Lees, kleur, knip en plak.

*De eerste schooltas is rood.  
De tas met het cijfer 2 staat naast de rode tas.  
De groene tas staat tussen de blauwe en gele tas.  
In de blauwe tas zit het cijfer 6.  
Het cijfer 8 zit niet in de rode tas.  
Het juiste cijfer voor jullie code zit in de rode tas.*

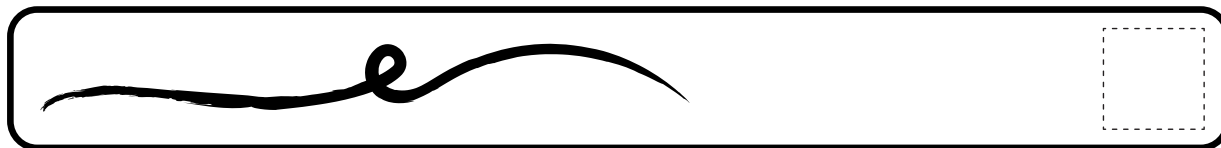




# OPDRACHT 2

# OPDRACHT 2

Gebruik de liniaal van de volgende bladzijde om het tweede cijfer te ontrafelen. Ga zo te werk:

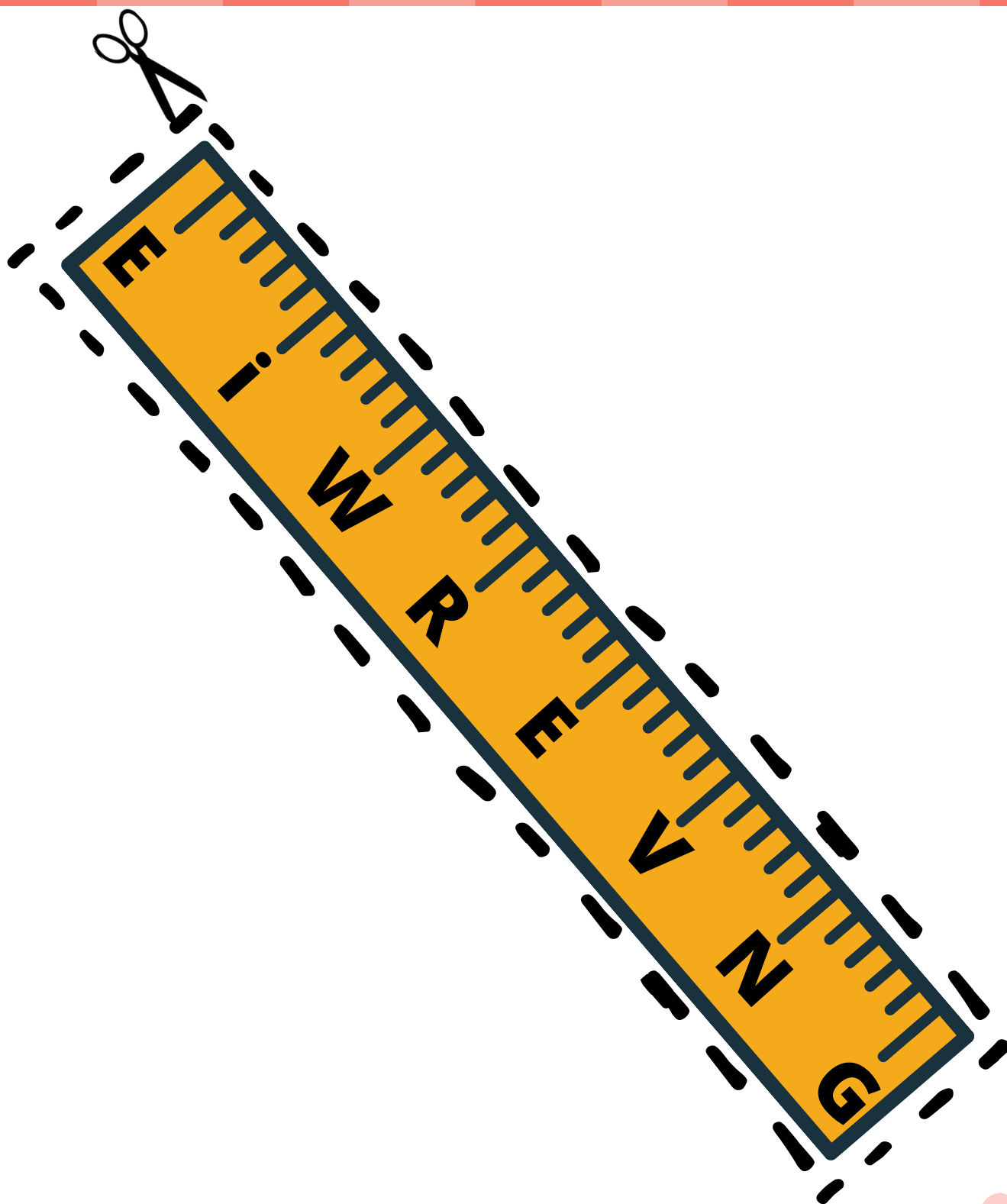
1. Knip de liniaal uit.
2. Meet onderstaande lijnen.
3. Lees de juiste letter af.
4. Noteer de letters achter de lijnen.



# OPDRACHT 2

Team  
Rood

## KNIPBLAD - LINIAAL






# OPDRACHT 3

# OPDRACHT 3


Gebruik de kaartjes van de bladzijdes hierna. Ga zo te werk:

1. Knip de kaartjes uit.
2. Bereken het juiste getal bij het kaartje.
3. Schrijft het getal op het kaartje.
4. Leg de kaartjes op de goede volgorde.
5. Liggen ze goed? Haal de **tip** op bij juf of meester.





Het getal dat bij dit kaartje hoort is:



Het getal dat bij dit kaartje hoort is:

Mira verkoopt kinderpostzegels voor haar school. Op zaterdag verkoopt zij 13 zegels en op zondag 34 zegels.

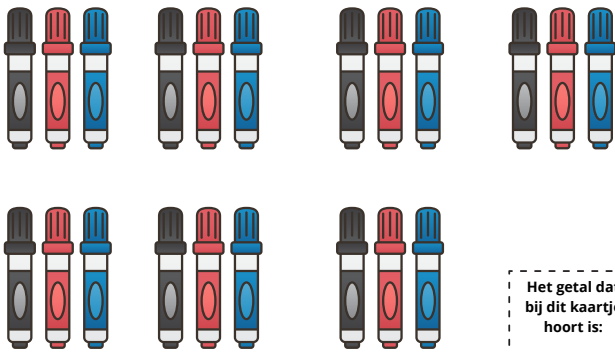
Hoeveel zegels heeft zij in totaal verkocht?

Het getal dat bij dit kaartje hoort is:

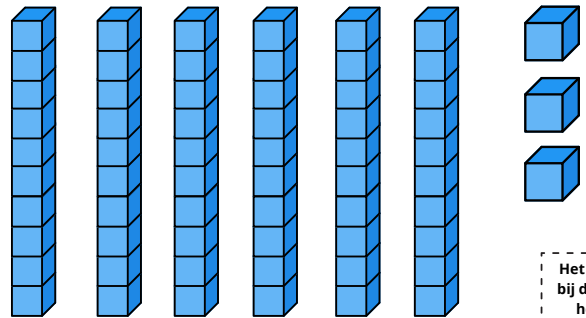
Anne heeft 5 dozen met elk 5 truien in de verhuisbus staan.

Hoeveel truien zijn dat samen?

Het getal dat bij dit kaartje hoort is:



Het getal dat bij dit kaartje hoort is:




Het getal dat bij dit kaartje hoort is:

Anne koopt drie tijdschriften. De tijdschriften kosten 16 euro, 18 euro en 20 euro.

Hoeveel euro moet Anne betalen bij de kassa?


Het getal dat bij dit kaartje hoort is:




Het getal dat bij dit kaartje hoort is:



Het getal dat  
bij dit kaartje  
hoort is:



Het getal dat  
bij dit kaartje  
hoort is:




Het getal dat  
bij dit kaartje  
hoort is:

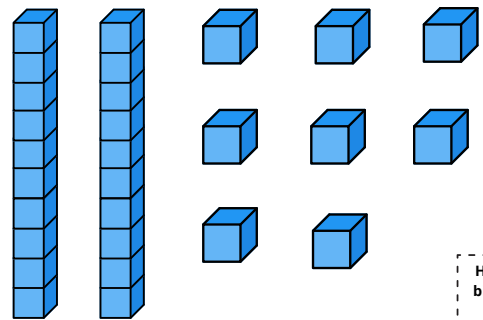
Vera en Monika verzamelen allerlei  
verschillende bloemen. Vera plukt 27  
bloemen en Monika 31.

Hoeveel bloemen zijn dat samen?

Het getal dat  
bij dit kaartje  
hoort is:



Het getal dat  
bij dit kaartje  
hoort is:




Het getal dat  
bij dit kaartje  
hoort is:

Marcel gaat naar de supermarkt en  
wisselt 20 munten van 10 cent in voor  
een euromunt.

Welke munt ontvangt hij van de  
medewerker?

Het getal dat  
bij dit kaartje  
hoort is:




Het getal dat  
bij dit kaartje  
hoort is:




Het getal dat bij dit kaartje hoort is:



Het getal dat bij dit kaartje hoort is:



Het getal dat bij dit kaartje hoort is:



Het getal dat bij dit kaartje hoort is:

Sierre moet 40 cent betalen voor de snoepjes die ze koopt. Ze geeft drie muntjes van 10 cent.

Hoeveel cent moet Sierre dan nog geven aan de medewerker?

Het getal dat bij dit kaartje hoort is:

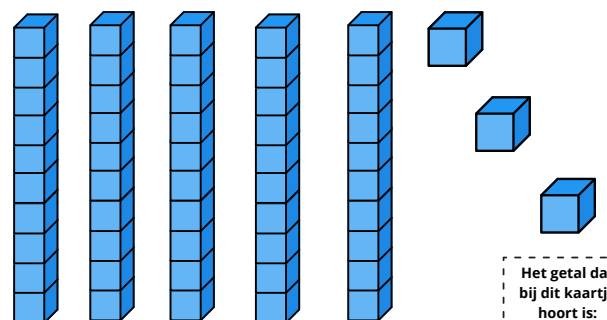


Het getal dat bij dit kaartje hoort is:

De voetbalcoach heeft 50 voetballen. Alle 19 kinderen krijgen één voetbal.

Hoeveel voetballen houdt de voetbalcoach over?

Het getal dat bij dit kaartje hoort is:



Het getal dat bij dit kaartje hoort is:

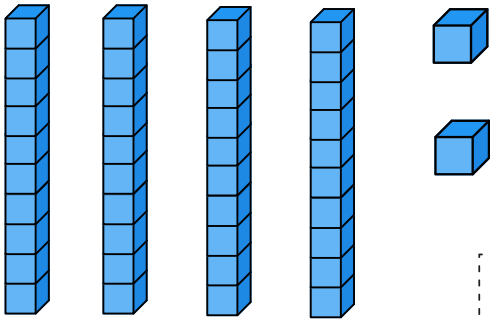
Tijdens de weekmarkt verkopen Musa en zijn broertje koekjes. Musa verkoopt 52 koekjes en zijn broertje 25 koekjes.

Hoeveel koekjes hebben zij in totaal verkocht?

Het getal dat bij dit kaartje hoort is:



Het getal dat bij dit kaartje hoort is:




Het getal dat bij dit kaartje hoort is:

Donja gaat naar de supermarkt en wisselt 10 munten van 10 cent in voor een euromunt.

Welke munt ontvangt zij van de medewerker?

Het getal dat bij dit kaartje hoort is:



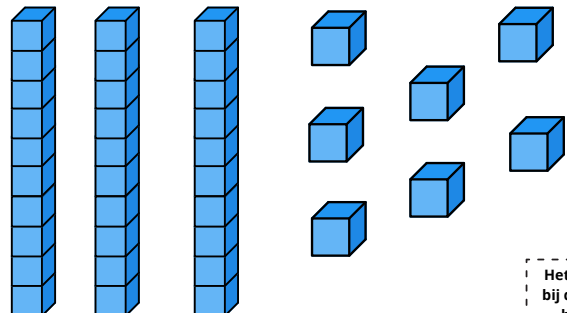
Het getal dat bij dit kaartje hoort is:



Het getal dat bij dit kaartje hoort is:



Het getal dat bij dit kaartje hoort is:



Het getal dat bij dit kaartje hoort is:



# OPDRACHT 4

# OPDRACHT 4

Hieronder zie je puzzelstukjes die samen een honderdveld vormen.

Ga zo te werk:

1. Knip de puzzelstukjes uit.
2. Maak het honderdveld compleet door de puzzelstukjes op de juiste plek te leggen.
3. Kleur de volgende getallen met jullie teamkleur: **14, 15, 16, 17, 24, 27, 34, 37, 44, 45, 46, 47, 57, 67, 74, 75, 76 en 77.**
4. Welk getal ontstaat er? Vertel dit getal aan jullie juf/meester en ontvang de laatste sleutel om het kistje te openen.





# OPDRACHT 4 - KNIPBLAD

61	62	63	64	65	66	67	68	69
71	72	73	74	75	76	77	78	79

81	82	83	84
91	92	93	94

4	5	6	7	8
14	15	16	17	18

30
40
50
60
70
80
90
100

# OPDRACHT 4 - KNIPBLAD

26	27	28	29
36	37	38	39
46	47	48	49
56	57	58	59

85	86	87	88	89
95	96	97	98	99

1	2	3
11	12	13
21	22	23

9	10
19	20

24	25
----	----

31	32	33	34	35
41	42	43	44	45
51	52	53	54	55



# BERICHT VOOR IEDERE DEELNEMER!


Je hebt een groepje gevormd. Voor jullie neus ligt een geel kistje. Het is de bedoeling dat jullie dit gele kistje samen open krijgen. Dat gaat niet gemakkelijk, want er hangen slotjes aan.

Om het kistje open te krijgen en de verrassing te achterhalen, moeten jullie raadsels oplossen.  
Dit doe je **samen**.

Bij samenwerken is het belangrijk om..

- .. te overleggen.
- .. naar elkaar te luisteren.
- .. elkaar uit te laten praten.
- .. elkaar complimenten te geven.
- .. elkaar te helpen als dat nodig is.

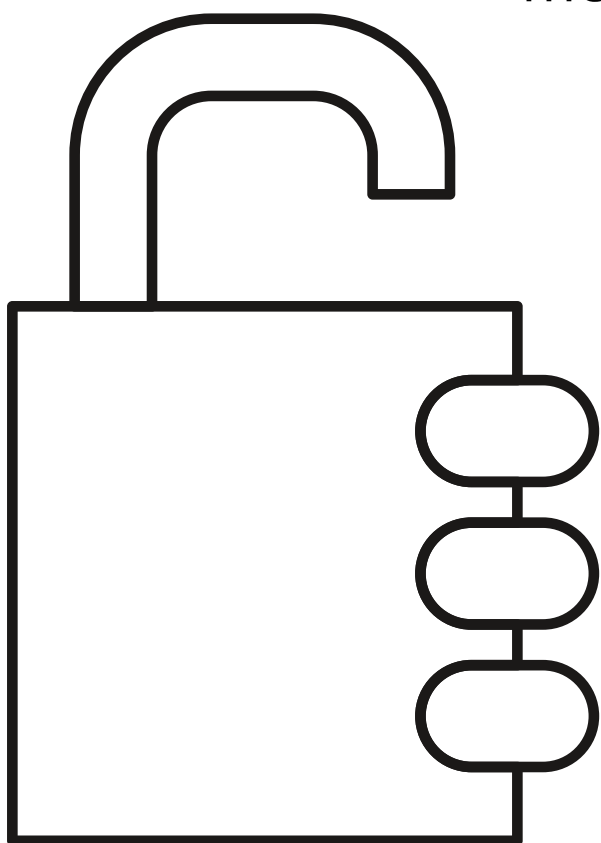
**Ik vertrouw op jullie! Heel veel succes.**



# DE CODE GEMAKKELIJK ONTHOUDEN

Team  
Geel

Bij opdracht 1 tot en met opdracht 4 ontrafel je één cijfer. Vul op dit werkblad de nummers in en laat dit aan het einde zien aan jullie juf of meester.




Cijfer van  
opdracht 1



Cijfer van  
opdracht 2



Cijfer van  
opdracht 3



Cijfer van  
opdracht 4



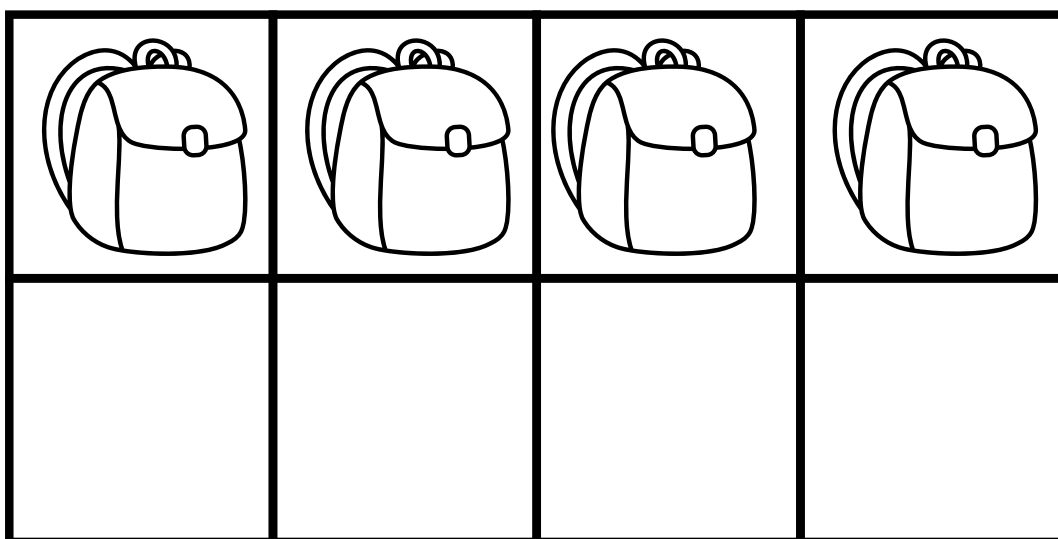


# OPDRACHT 1

## Los de leeskraker op:

Voor het lokaal staan vier tassen. In iedere tas zit een cijfer. Lees, kleur, knip en plak.

*De eerste schooltas is rood.  
De tas met het cijfer 2 staat naast de rode tas.  
De groene tas staat tussen de blauwe en gele tas.  
In de blauwe tas zit het cijfer 6.  
Het cijfer 8 zit niet in de rode tas.  
Het juiste cijfer voor jullie code zit in de rode tas.*



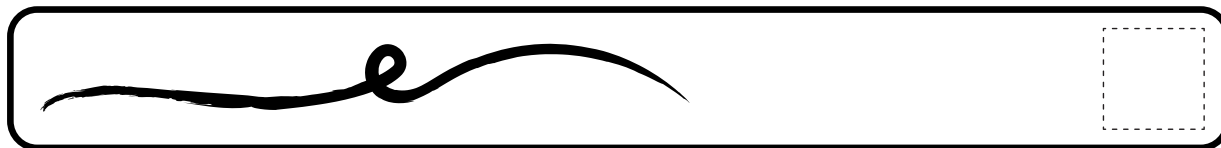





# OPDRACHT 2

Gebruik de liniaal van de volgende bladzijde om het tweede cijfer te ontrafelen. Ga zo te werk:

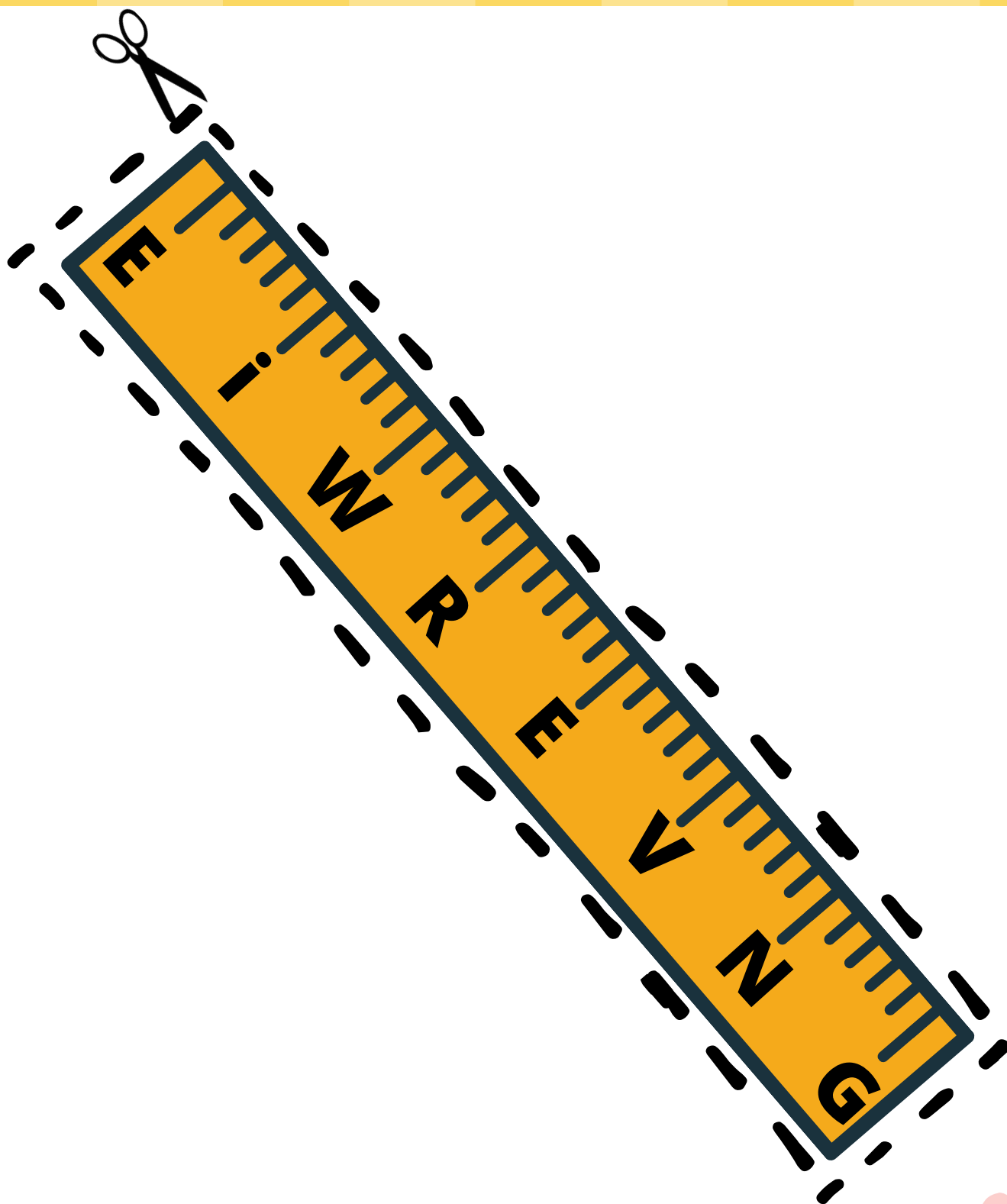
1. Knip de liniaal uit.
2. Meet onderstaande lijnen.
3. Lees de juiste letter af.
4. Noteer de letters achter de lijnen.



# OPDRACHT 2

Team  
Geel

## KNIPBLAD - LINIAAL






# OPDRACHT 3


Gebruik de kaartjes van de bladzijdes hierna. Ga zo te werk:

1. Knip de kaartjes uit.
2. Bereken het juiste getal bij het kaartje.
3. Schrijft het getal op het kaartje.
4. Leg de kaartjes op de goede volgorde.
5. Liggen ze goed? Haal de **tip** op bij juf of meester.





Het getal dat bij dit kaartje hoort is:



Het getal dat bij dit kaartje hoort is:

Mira verkoopt kinderpostzegels voor haar school. Op zaterdag verkoopt zij 13 zegels en op zondag 34 zegels.

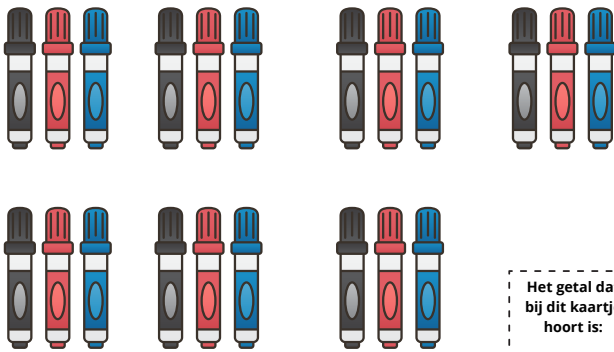
Hoeveel zegels heeft zij in totaal verkocht?

Het getal dat bij dit kaartje hoort is:


Anne heeft 5 dozen met elk 5 truien in de verhuisbus staan.

Hoeveel truien zijn dat samen?

Het getal dat bij dit kaartje hoort is:



Het getal dat bij dit kaartje hoort is:




Het getal dat bij dit kaartje hoort is:

Anne koopt drie tijdschriften. De tijdschriften kosten 16 euro, 18 euro en 20 euro.

Hoeveel euro moet Anne betalen bij de kassa?


Het getal dat bij dit kaartje hoort is:




Het getal dat bij dit kaartje hoort is:



Het getal dat  
bij dit kaartje  
hoort is:



Het getal dat  
bij dit kaartje  
hoort is:



Het getal dat  
bij dit kaartje  
hoort is:

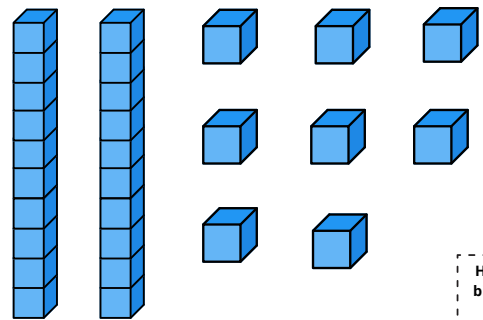
Vera en Monika verzamelen allerlei  
verschillende bloemen. Vera plukt 27  
bloemen en Monika 31.

Hoeveel bloemen zijn dat samen?

Het getal dat  
bij dit kaartje  
hoort is:



Het getal dat  
bij dit kaartje  
hoort is:




Het getal dat  
bij dit kaartje  
hoort is:

Marcel gaat naar de supermarkt en  
wisselt 20 munten van 10 cent in voor  
een euromunt.

Welke munt ontvangt hij van de  
medewerker?

Het getal dat  
bij dit kaartje  
hoort is:




Het getal dat  
bij dit kaartje  
hoort is:



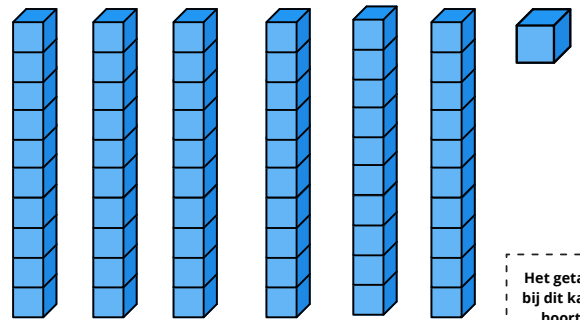
Het getal dat bij dit kaartje hoort is:



Het getal dat bij dit kaartje hoort is:



Het getal dat bij dit kaartje hoort is:



Het getal dat bij dit kaartje hoort is:

Sierre moet 40 cent betalen voor de snoepjes die ze koopt. Ze geeft drie muntjes van 10 cent.

Hoeveel cent moet Sierre dan nog geven aan de medewerker?

Het getal dat bij dit kaartje hoort is:




Het getal dat bij dit kaartje hoort is:

De voetbalcoach heeft 50 voetballen. Alle 19 kinderen krijgen één voetbal.

Hoeveel voetballen houdt de voetbalcoach over?

Het getal dat bij dit kaartje hoort is:



Het getal dat bij dit kaartje hoort is:

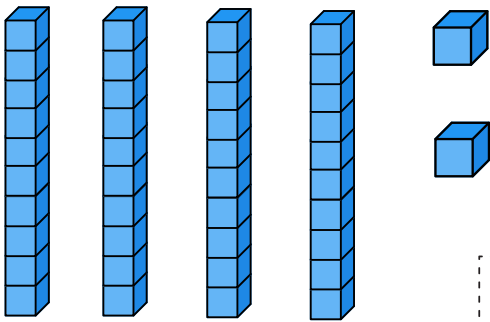
Tijdens de weekmarkt verkopen Musa en zijn broertje koekjes. Musa verkoopt 52 koekjes en zijn broertje 25 koekjes.

Hoeveel koekjes hebben zij in totaal verkocht?

Het getal dat bij dit kaartje hoort is:



Het getal dat bij dit kaartje hoort is:




Het getal dat bij dit kaartje hoort is:

Donja gaat naar de supermarkt en wisselt 10 munten van 10 cent in voor een euromunt.

Welke munt ontvangt zij van de medewerker?

Het getal dat bij dit kaartje hoort is:



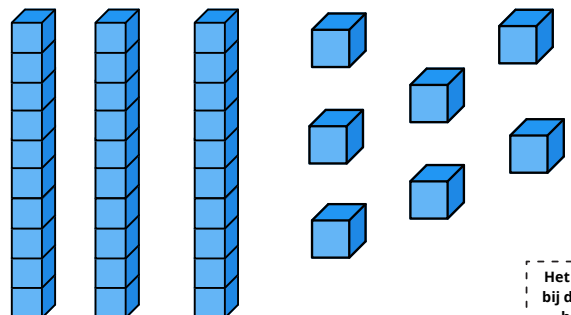
Het getal dat bij dit kaartje hoort is:



Het getal dat bij dit kaartje hoort is:



Het getal dat bij dit kaartje hoort is:



Het getal dat bij dit kaartje hoort is:






# OPDRACHT 4

Hieronder zie je puzzelstukjes die samen een honderdveld vormen.

Ga zo te werk:

1. Knip de puzzelstukjes uit.
2. Maak het honderdveld compleet door de puzzelstukjes op de juiste plek te leggen.
3. Kleur de volgende getallen met jullie teamkleur: **14, 15, 16, 17, 24, 27, 34, 37, 44, 45, 46, 47, 57, 67, 74, 75, 76 en 77.**
4. Welk getal ontstaat er? Vertel dit getal aan jullie juf/meester en ontvang de laatste sleutel om het kistje te openen.



# OPDRACHT 4 - KNIPBLAD

61	62	63	64	65	66	67	68	69
71	72	73	74	75	76	77	78	79

81	82	83	84
91	92	93	94

4	5	6	7	8
14	15	16	17	18

30
40
50
60
70
80
90
100

# OPDRACHT 4 - KNIPBLAD

26	27	28	29
36	37	38	39
46	47	48	49
56	57	58	59

85	86	87	88	89
95	96	97	98	99

1	2	3
11	12	13
21	22	23

9	10
19	20

24	25
----	----

31	32	33	34	35
41	42	43	44	45
51	52	53	54	55



# Gefeliciteer

Jullie hebben de  
code gekraakt



Naam: \_\_\_\_\_

Handtekening: \_\_\_\_\_